

KPSS
ÖN LİSANS

TÜRKİYE GENELİ **5**

GENEL YETENEK - GENEL KÜLTÜR TESTİ

ÇÖZÜM KİTAPÇIĞI

PEGEM AKADEMİ

1. Altı çizili sözcüklerin sorulduğu sorularda kelimelerin gerçek anlamında hareketle mecaz anlamlara ulaşır. Terazinin gerçek anlamında da dilin ölçülmesi yani dengeli kullanılması gerektiği anlaşılmaktadır. Parçada yer alan “**terazinin bir kefesine daima dili koymak**” sözü de düşünerek konuşma anlamı vermektedir.

Cevap D

2. Verilen parçadan bir annenin çocuğunun “**doğrular için savaşıırken yanlışlara düştüğü**” kesin olarak çıkar çünkü “**keşke daha iyi yol**” sözcüğü olumsuz bir durumun geliştiğini anlatır.

Cevap D

3. Öncüde verilen cümlede, var olan kanunların tam olarak uygulanması için üretici, satıcı ve tüketicilerin hak ve yükümlülüklerini (sorumluluklarını) tam olarak bilmesi gerektiği anlatılmaktadır. Buna göre, cümlede boş bırakılan yerlere D seçeneğinde verilen “**yükümlülüklerini - uygulamak**” sözleri sırasıyla getirilmelidir.

Cevap D

4. Öncüde geçen “**ziyan edilmiş**” sözünden gençlerin gençliğin kıymetini tam olarak anlayamadıkları vurgulanmıştır.

Cevap C

5. Öncüde verilen sözler “**II - III - V - I - IV**” şeklinde sıralandığında anlamlı ve kurallı bir cümle elde edilir.

Juneau bozuk kentleşmenin bir / sonucu olarak daha fazla arabaya bağımlı insanları görmeyi / beklediklerini fakat kesinlikle iyi bir haber olarak hem / kadınlarda hem erkeklerde yürümek ve bisiklete / binmek gibi sağlıklı davranış alışkanlıklarının arttığını söylüyor.

Cevap C

6. II. cümledeki “**bu büyüme**” ifadesi III. cümledeki “**büyüme**” ifadesinin açıklaması olduğu için bu iki cümle yer değiştirmelidir.

Cevap A

7. Dizelerde verilen “kahrettim ve aklı” sözcüklerindeki ortak ses olayı ünlü düşmesidir.

**kahr et- > kahret-
akıl-ı > aklı**

Cevap B

8. Özel isimlere getirilen yapım ekleri ve bunlardan sonra gelen diğer ekler kesme işaretiyle ayrılmaz. Bu kural gereğince “**Avrupa'lılara**” sözcüğünün doğru yazımı “**Avrupalılara**” şeklinde kesmesiz olmalıdır.

“**Avrupa'ya**” sözcüğünün yazımı doğrudur çünkü bu sözcüğe gelen ek çekim ekidir.

Cevap A

9. A, B, D ve E seçeneklerinde virgül (,) sıralı cümleleri ayırmada kullanılmıştır. C seçeneğinde ise özneyi vurgulama göreviyle kullanılmıştır.

Cevap C

10. I numaralı söz özne,

II numaralı söz zarf tümleci,

III numaralı söz özne,

IV numaralı söz dolaylı tümleç görevindedir.

V numaralı ifadede “**beden dilini kullanmamız**” sözü özne, “**gereklidir**” sözcüğü de yüklemdir.

Cevap E

11. D seçeneğinde “**seçilmelidir**” yüklemi edilgen yapıdır. Çünkü edilgen çatılı eylemlerde işi yapan belli değildir. Edilgen çatılı eylemler “-L,m” harflerini alırlar.

“**Burada kullanacağınız sözcükleri özenle seçmelisiniz.**” şeklinde olsaydı cümle, etken çatılı olacaktı.

Cevap D

12. siyah üniforma

yünlü eldiven

kırık asfalt

uyuşuk su şişesi

Yukarıdaki sözcükler, arkalarından gelen sözcükleri nitelemektedir. Altı çizili “**arasında**” sözcüğünün önünde herhangi bir sıfat yoktur.

Cevap E

13. II numaralı cümlede sadece yüklem bulunduğu ve yüklem dışında herhangi bir fiilimsi ya da ikinci bir yüklem bulunmadığı için bu cümle basit yapıdır. Diğer cümlelerde yüklem dışında fiilimsiler bulunduğundan bu cümleler girişik birleşik yapıdır.

I. Spor dünyasının dopingle **tanışması** ilk çağlara kadar uzanıyor.

II. Ancak bilimsel ilaçların kullanım tarihi o kadar eski değil.

III. Örneğin Amsterdam'da kanal yüzücülerinin güç **veren** ilacı **aldıkları** ortaya **çıktığında** takvim 1865 yılını gösteriyordu.

IV. Yakın bir zaman önce bir bisikletçi yarışmada **ölmüş** doping kullanımına ilişkin sınırlamalar kondu.

V. Böylece 19. yüzyıl, sporda ilaç kullanımının **başladığı** dönem olarak tarihe geçti.

Cevap B

14.

I numaralı sözcükte "-dık" sıfat fiil eki (yaşa - dık - ı),
 II numaralı sözcükte "-den" ayrılma-çıkma durum eki (dönem-den),
 III numaralı sözcükte "si" tamlanan eki (dönemden önce-si)
 V numaralı sözcükte "ölçü - s - ü - n - ü" şeklinde yardımcı sesler kullanılmıştır.
 IV numaralı sözcükte sadece "-ın" tamlayan eki (adam - ın) kullanılmıştır. Sözcükte herhangi bir yapım eki yoktur.

Cevap D

15. Parçada geçen "... bunun tarihsel nedenleri arasında aydın üretiminin, kitap üretiminin bir türevi olduğunu..." sözlerinden, aydın yetişmemesi durumunun yayın alanındaki yetersizliğe paralel olduğu açıklanmak istenmiştir.

Cevap C

16. Fıkranın edebiyatımıza ne zaman girdiğine yönelik bir bilgiye parçada yer verilmemiştir. Diğer soruların yanıtları şu şekildedir:

A) **Fıkra, yazarın yorumunu içerir mi?**

"...ve yazarın kişisel fikirlerini ifade etmesidir."

B) **Fıkra, başka türlerle benzerlik gösterir mi?**

"...kimi fıkra yazarları söyleşi, deneme türlerine kayabilmektedir."

D) **Fıkranın ayırıcı özelliği nedir?**

"Fıkranın en önemli özelliği kişisel fikirler taşıması ve bu yüzden de öznel olmasıdır."

E) **Fıkra, nasıl bir üslupla yazılır?**

"Yazar, kendi fikirlerini başkalarına kabul ettirmek için yoğun ve etkili bir dil kullanır."

Cevap C

17. Parçada "Dil ve dille üretilen eserler, dilin içinde geliştiği milliyet ruhuyla yakından ilişkilidir." ifadesinde A seçeneğine,

"sıra dışı zengin bir cümle yapısı" ifadesinde B seçeneğine,

"Şiir dilini nesne başarıyla yedirebilmiştir." ifadesinde E ve C seçeneğine değinilmiştir.

Başarılı şiirler ortaya koyduğuna yönelik bir ifadeye parçada koyduğuna yönelik bir ifadeye parçada yer verilmiştir.

Cevap D

18. Parçada geçen "yaşam tarzlarından, yaşadıkları mekânlardan" sözünden yaşanan ortamın insanın kişiliğini etkilediği sonucuna ulaşılmaktadır.

Cevap A

19. Parçada, insanların ihtiyaçlarını dile getirmek için resimler çizdikleri ve farkında olmadan bu çizimlere beğenilerini yansıttıkları ifade edilmişse de bu resimleri başkalarına beğendirmeye çalıştıklarına yönelik bir ifadeye parçada yer verilmemiştir.

Cevap C

20. "Yazar olmak için tek bir şey, aslında iki şey, yapmak gerekiyor. Bunlardan birincisi yazmak. Yazın! Birinci kural bu. Yazmadan, yalnızca 'Ben yazar olacağım.' diyerek yazar olamazsınız." ifadesinde yazar olabilmek için gerekli donanımlardan söz edildiğine göre sorunun yanıtı da buna uygun olmalıdır. Buna en uygun soru da D seçeneğinde verilmiştir.

Cevap D

21. Paragrafın bütününde metinde okurun kendini bulabilmesinin nasıl mümkün olacağından söz edilirken beşinci cümlede sanatçının kendini nasıl anlatabileceğinden söz edilerek parçanın anlam bütünlüğü bozulmuştur.

Cevap E

22. Parçadaki düşüncelere sahip biri "Edebiyat eserinin vurgulamak istediğinin dizileştirme sırasında göz önüne alınmaması"ndan yakınmaktadır. Bu seçeneğe "Ama kitabın asıl anlatmak istediği uçup gitmişti." ifadesinden ulaşılmaktadır.

Cevap E

23. Parçadaki "... o besteyi dinlerken duyduğunuz, düşündüğünüz şeyleri sözle anlatamazsınız." ifadesinden "Bestelerin anlamı cümlelerle anlatılamaz, beste dinlerken duyumsanır." yargısına ulaşılabılır.

Cevap D

24. Parçada geçen "... diğer kültür unsurlarının da başlıca taşıyıcısı" ve "millî damgası en belirli olan..." ifadelerinde karşılaştırma vardır.

"Dil bir milletin ... ona damgasını vurmasıdır." ifadesinde soyut kavramlar somutlanarak dile getirilmiştir, "değerlerin müşterek hazinesidir." ifadesinde benzetme vardır.

Parçada dilin çeşitli yönleri açıklanmıştır.

Parçanın anlatımında örneklere yer verilmemiştir.

Cevap C

25. Parçada dilin düşünme ve düşünülenleri ifade etmeye yarayan bir araç olduğu vurgulanmıştır. Toplumların dünyayı nasıl algıladıkları da dillerinden anlaşılmaktadır. Dolayısıyla "kainatı kendine göre seslendirme" ifadesi toplumun yaşama bakışını, yaşama nasıl bir anlam verdiğini gösteren bir anlam taşımaktadır.

Cevap A

26. Parçada "insana romantik duygular kazandırdığını söyleyerek" ifadesinde I. öncüle,

"...Kristof Kolomb'un Amerika'yı keşfinden sonra Avrupa'ya gemilerle gönderilmiştir." ifadesinde IV. öncüle değinilmiştir.

II ve III. öncüllere yönelik bir bilgiye yer verilmemiştir.

Cevap D

27.

I. cümlede "ilginç"

IV. cümlede "vazgeçilmez"

V. cümlede "lezzet katmaya" ve

VI. cümlede "ne eski tadı ne de kokusu" ifadeleri söyleyenin yorumunu içermektedir, dolayısıyla bu cümlelerde öznel anlatıma yer verilmiştir.

Cevap C

28. "Bir öğrenci öykü, bir öğrenci roman, iki öğrenci şiir kitabı ve iki öğrenci deneme almamıştır." öncülüne göre 3 öğrenci öykü 3 öğrenci roman, 2 öğrenci şiir kitabı ve 2 öğrenci deneme türünde kitap almıştır.

Ceren sadece şiir kitabı almadıysa kalan üç kitap türünden de almış olacaktır. Öncelikle Ceren yerleştirilir.

öykü (3)	roman (3)	şiir (2)	deneme (2)
Ceren	Ceren		Ceren

Arda roman almadıysa ve toplamda üç roman alındıysa bu kişiler Ceren, Duygu ve Burak'tır.

Ayrıca, şiir kitabı ve öykü alanlardan biri roman almamışsa bu kişi de Arda olacaktır.

öykü (3)	roman (3)	şiir (2)	deneme (2)
Ceren	Ceren	Arda	Ceren
Arda	Burak	?	?
?	Duygu		

Verilere göre yukarıdaki gibi bir tablo ortaya çıkmaktadır. Kalan kısımlar için farklı olasılıklar düşünülebilir.

Tabloya göre öykü alanlardan birinin (yani Arda'nın) şiir kitabı aldığı kesin olarak söylenebilir.

Cevap B

29. Deneme alanlardan biri roman almadıysa bu öğrenci Arda'dır. Çünkü roman almayan Arda vardır.

öykü (3)	roman (3)	şiir (2)	deneme (2)
Ceren	Ceren	Arda	Ceren
Arda	Burak	?	Arda
?	Duygu		

Cevap A

30.

öykü (3)	roman (3)	şiir (2)	deneme (2)
Ceren	Ceren	Arda	Ceren
Arda	Burak	?	?
Duygu	Duygu		

Tabloya göre Duygu öykü ve roman aldıysa Burak'ın öykü almadığı kesin doğrudur.

Cevap A31. Ardışık iki pozitif tek tam sayı $x + 2$ ve x olsun.

$$(x + 2)^2 - x^2 = 56$$

$$x^2 + 4x + 4 - x^2 = 56$$

$$4x = 52$$

$$x = 13$$

Böylece sayılar 13 ve 15 olur.

Çarpımları $13 \cdot 15 = 195$ bulunur.

Cevap C

32. Sayının 15 tam bölünebilmesi için 5 ve 3'e ayrı ayrı tam bölünmesi gerekir.

5'e tam bölünebilmesi için $y = 0$ veya $y = 5$ olmalıdır.

$y = 5$ için $4x35$ sayısının rakamları toplanırsa $x + 12 = 3k \Rightarrow x$ yerine 0, 3, 6, 9 değerleri yazılabilir.

Böylece $x + y$ toplamı en çok $5 + 9 = 14$ bulunur.

$y = 0$ için bu değerden daha büyük bir sayı elde edilemez.

Cevap B33. $2^m \cdot 3^1 \cdot 5^1$ sayısının pozitif tam bölen sayısı P.B.S = 16 ise $(m + 1) \cdot (1 + 1) \cdot (1 + 1) = 16$

$$m = 3'tür.$$

$6^3 = 2^3 \cdot 3^3$ olduğundan P.B.S = $(3 + 1)(3 + 1) = 16$ bulunur.

Cevap B

34. Depodaki koli sayısı A olsun.

4'er 4'er, 6'şar 6'şar ve 10'ar 10'ar sayıldığında hep 3 koli arttığından

$$A = 4x + 3 = 6y + 3 = 10z + 3 \Rightarrow A - 3 = 4x = 6y = 10z$$

$$\Rightarrow A - 3 = \text{ekok}(4, 6, 10) \cdot k$$

$$\Rightarrow A - 3 = 60 \cdot k \text{ olur.}$$

$k = 8$ seçilirse $A - 3 = 480 \Rightarrow A = 483$ olabilir.

Cevap B

35. İkili toplamlar verildiğinden önce rasyonel ifadeler sıralanır ve büyük olan sayıda hangi harf yoksa o en küçük sayı kabul edilir.

$$\frac{19}{26} > \frac{18}{25} > \frac{13}{20} \quad b + c > a + b > a + c \text{ olur.}$$

$$\left. \begin{array}{l} b + c > a + b \Rightarrow c > a \\ a + b > a + c \Rightarrow b > c \end{array} \right\} b > c > a \text{ bulunur.}$$

Cevap D

36. Verilen öncülleri inceleyelim.

I. a ile b'nin işaretleri bilinmediğinden $a^2 < b^2$ veya $a^2 > b^2$ olabilir. Dolayısıyla kesinlik yoktur.

II. a ile b'nin işaretleri bilinmediğinden $\frac{1}{a} < \frac{1}{b}$ veya $\frac{1}{a} > \frac{1}{b}$ olabilir. Dolayısıyla kesinlik yoktur.

III. c bir reel sayı olmak üzere $a < b \Rightarrow a - c^2 < b - c^2$ olduğundan daima doğrudur.

Cevap C

$$37. \begin{array}{l|l} \frac{2}{x-2} = \frac{6-2x}{x-2} & x-2 = 2x-6 \\ x-2 = 6-2x & x-2 = 2x-6 \\ 3x = 8 & \boxed{4=x} \\ x = \frac{8}{3} & \end{array}$$

$\frac{8}{3} > 2$ olduğu için çözüm kümesinin elemanı olamaz.

Böylece çözüm kümesi $\{4\}$ bulunur.

Cevap B

$$38. \left(\frac{1}{4}\right)^{m+4} > 8^{m+1}$$

$$2^{-2m-8} > 2^{3m+3}$$

$$-2m-8 > 3m+3$$

$$-5m > 11$$

$$m < -\frac{11}{5}$$

Dolayısıyla en çok -3 olur.

Cevap A

39. Verilen sayılar eşlenikleri ile çarpılırsa,

$$\begin{aligned} \frac{\frac{6}{\sqrt{3}}}{\frac{\sqrt{2}}{\sqrt{2+1}} + \sqrt{2}-1} &= \frac{\frac{6\sqrt{3}}{3}}{\frac{\sqrt{2} + (\sqrt{2}-1)(\sqrt{2}+1)}{\sqrt{2}+1}} \\ &= \frac{2\sqrt{3}}{\frac{\sqrt{2}+1}{\sqrt{2}+1}} \\ &= 2\sqrt{3} \text{ bulunur.} \end{aligned}$$

Cevap D

$$40. x^2 - x = 3 \Rightarrow x^2 = x + 3 \text{ olsun}$$

Böylece

$$x^4 + x^3 = (x^2)^2 + (x^2) \cdot x$$

$$= (x+3)^2 + (x+3) \cdot x$$

$$= x^2 + 6x + 9 + x^2 + 3x$$

$$= 2x^2 + 9x + 9$$

$$= 2(x+3) + 9x + 9$$

$$= 11x + 15 \text{ bulunur.}$$

Cevap A

41. $100! + 50! - 1$ sayısının sondan kaç basamağının 9 olduğunu bulmak için $50!$ sayısının sondan kaç basamağının sıfır olduğunu bulmak yeterlidir.

$$50 \left| \begin{array}{l} 5 \\ 10 \\ 2 \end{array} \right. \begin{array}{l} 5 \\ 2 \end{array} \\ 10 + 2 = 12$$

Böylece $100! + 50! - 1$ sayısının sondan 12 basamağı sıfır olur.

Cevap C

$$42. \begin{cases} 3a = 7b \Rightarrow \frac{a}{b} = \frac{7}{3} = \frac{49}{21} \\ 7c = 4b \Rightarrow \frac{c}{b} = \frac{4}{7} = \frac{12}{21} \end{cases} \begin{cases} a = 49k \\ b = 21k \\ c = 12k \end{cases}$$

$$\text{Böylece } \frac{2a-b}{b+c} = \frac{98k-21k}{21k+12k} = \frac{77k}{33k} = \frac{7}{3} \text{ bulunur.}$$

Cevap A

43. Paydası ortak kesirler bir araya getirilip sadeleştirilirse

$$\frac{x-2}{x+1} + \frac{3}{x+1} + \frac{x}{x-1} = 4$$

$$\frac{x+1}{x+1} + \frac{x}{x-1} = 4$$

$$1 + \frac{x}{x-1} = 4$$

$$\frac{x}{x-1} = 3$$

$$3x - 3 = x$$

$$x = \frac{3}{2} \text{ bulunur.}$$

Cevap B

$$44. \boxed{\text{Gişe}} \begin{array}{c} A \\ \bullet \\ \text{12 kişi} \end{array} \begin{array}{c} \circ \circ \circ \circ \circ \\ \text{D} \\ \bullet \\ \text{22 kişi} \end{array}$$

Böylece kuyrukta $12 + 22 + 6 = 40$ kişi bulunur.

Cevap C

45. Verilen iki basamaklı sayı çözümlenirse

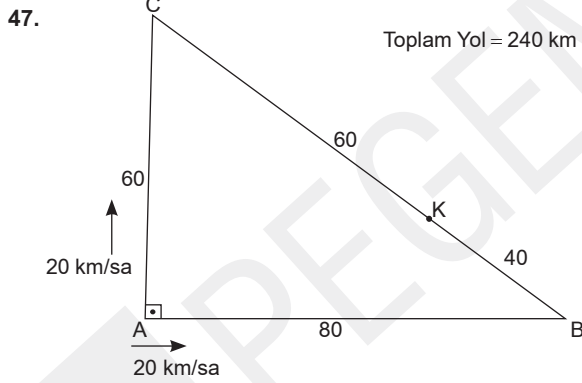
$$\begin{aligned} xy &= 5(x+y) \\ 10x+y &= 5x+5y \\ 5x &= 4y \\ x &= 4 \text{ ve } y = 5 \text{ olur.} \end{aligned}$$

Önder 45 yaşında olduğundan 5 yıl önce 40 yaşında olur.

Cevap B

46. $\frac{1. \text{ yapılan iş miktarı}}{\text{Diğer verilen çarpımı}} = \frac{2. \text{ yapılan iş miktarı}}{\text{Diğer verilen çarpımı}}$
 $\frac{48}{8 \cdot 8 \cdot 6} = \frac{36}{4 \cdot 4 \cdot x} \Rightarrow 48 \cdot 4 \cdot 4 \cdot x = 36 \cdot 8 \cdot 8 \cdot 6$
 $x = 18$ bulunur.

Cevap D



$$\begin{aligned} x &= (V_1 + V_2) \cdot t \\ 240 &= (20 + 20) \cdot t \Rightarrow t = 6 \text{ saat sonra karşılaşır.} \\ \text{ABC yolunu izleyen araç 6 saatte } 20 \cdot 6 &= 120 \text{ km yol alır.} \\ \text{B'den 40 km uzakta karşılaşır.} \\ |KB| &= 40 \text{ km bulunur.} \end{aligned}$$

Cevap B

48. Ürünün fiyatı $100x$ olsun.
 $\%12$ KDV'li $112x = 448$
 $x = 4$ bulunur.
 Böylece KDV hariç fiyatı 400 TL olur.
 KDV hariç fiyatın $\%20$ 'si
 $400 \cdot \frac{20}{100} = 80$ TL

Cevap A

49.

$$40 \cdot \frac{12}{100} + 120 \cdot \frac{4}{100} = 160 \cdot \frac{n}{100}$$

$$40 \cdot 12 + 120 \cdot 4 = 160n$$

$$12 + 12 = 4n$$

$$n = 6 \text{ bulunur.}$$

Cevap C

50. A

B

x

x

3x

$s(A \setminus B) = s(A \cap B) = x$ olsun
 $s(B) = 2 \cdot s(A) = 2 \cdot (2x) = 4x$ olur.
 $s(A \cup B) = 30 \Rightarrow 5x = 30 \Rightarrow x = 6$ olur.
 $x = 6$

Böylece $s(A \cap B) = 6$ bulunur.

Cevap B

51. $2m$ zeytinden m lt yağ olursa
 144 kg zeytinden 72 lt yağ olur.

3n yağdan \rightarrow 5n sabun olursa
 72 lt yağdan \rightarrow x

$$x = \frac{72 \cdot 5n}{3n} = 120 \text{ kg bulunur.}$$

Cevap A

52. 500 kg sabun kullanıldığından $5n = 500$ ise $n = 100$ 'dür.
 Yağ $3n = 300$ lt'dir.
 300 litre yağ kullanılırsa
 $m = 300$ ise $2m = 600$ kg zeytin kullanılır.
 Dolayısıyla kullanılan zeytin ile yağ arasındaki fark
 $600 - 500 = 100$ olur. Bu durumda $\frac{100}{500} = \%20$ daha fazladır.

Cevap B

53. $a \square e = a \Rightarrow a + e - 2ae = a$
 $e(1 - 2a) = 0 \Rightarrow e = 0$ 'dir.
 $3^{-1} = k$ olsun.
 $3 \square k = 0$ olmalıdır.
 $3 + k - 2 \cdot 3 \cdot k = 0$
 $3 = 5k$
 $k = \frac{3}{5}$ bulunur.

Cevap D

54.

<u>Otomobil</u>	<u>Komyonet</u>	<u>Otobüs</u>
x	x	$39 - 2x$
↓		↓
$x + 17$		$36 - 2x$

son durumda otomobil sayısı otobüs sayısının 3 katı olduğundan
 $x + 17 = 3 \cdot (36 - 2x) \Rightarrow x + 17 = 108 - 6x \Rightarrow 7x = 91$
 $\Rightarrow x = 13$ olur.

Dolayısıyla başlangıçta otoparktaki komyonet sayısı 13 bulunur.

Cevap B

55. 6 kişi yuvarlak masa etrafına koşulsuz $5!$ şekilde sıralanır. Anne ve baba yan yana olacaksa $4! \cdot 2!$ sıralanır. Anne ile babanın yan yana oturma olasılığı
 $= \frac{4! \cdot 2!}{5!} = \frac{2}{5}$ bulunur.

Cevap C

56. $PA(234) = 234 + 3 \cdot 4 + 2^4$
 $= 234 + 12 + 16$
 $= 262$ bulunur.

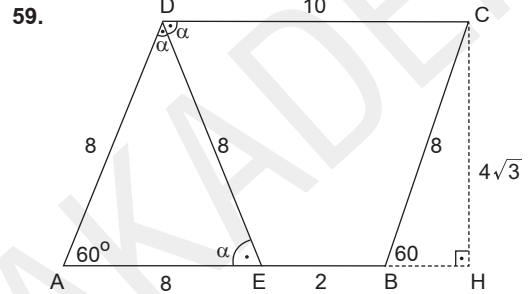
Cevap D

57. $PA(5m1) = 550$ ise
 $5m1 + m \cdot 1 + 5^1 = 550$
 $500 + 10m + 1 + m + 5 = 550$
 $11m = 44$
 $m = 4$ bulunur.

Cevap E

58. $A(3, k)$ noktası doğru üzerindeyse doğru denklemini sağlar.
 $2 \cdot 3 + k - 5 = 0 \Rightarrow k = -1$
 $A(3, -1)$ noktasının orijine uzaklığı $|AO|$ olur.
 $|AO| = \sqrt{9 + 1} = \sqrt{10}$ birim bulunur.

Cevap C



ADE eşkenar üçgen olduğundan

$$m(\widehat{DAE}) = m(\widehat{CBH}) = 60^\circ \text{ olur.}$$

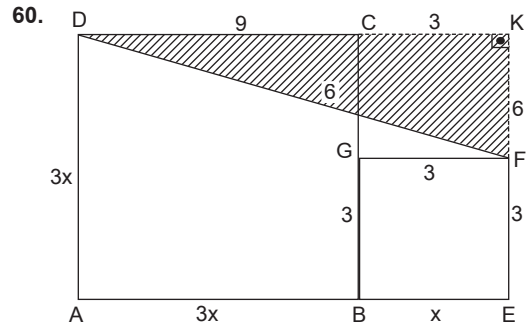
CHB üçgen

$30^\circ - 60^\circ - 90^\circ$ üçgen olduğundan

$$h = 4\sqrt{3} \text{ cm olur.}$$

$$A(DEBC) = \frac{(2 + 10) \cdot 4\sqrt{3}}{2} = 24\sqrt{3} \text{ cm}^2 \text{ bulunur.}$$

Cevap A



$A(ABCD) = 9 \cdot A(BEFG)$ ise kenar oranı $3x$ ve x 'tir.

$\square(BEFG) = 12$ olduğundan

$$4x = 12 \Rightarrow x = 3 \text{ olur.}$$

DKF dik üçgeninde pisagor bağıntısında

$$|DF|^2 = 12^2 + 6^2 \Rightarrow |DF| = 6\sqrt{5} \text{ cm bulunur.}$$

Cevap C

1. Uygurlar mimari alanda önceki dönemlere göre büyük gelişme kaydetmiş, birçok kent kurup etrafını surlarla çevirmişlerdir. Evler, saraylar, dinin etkisiyle yapılan manastır ve tapınaklar Uygur kent mimarisinin önemli öğeleridir. Dolayısıyla Uygurlar Dönemi'nde fresk (duvar resmi), stupa (kubbeli tapınak) örneklerine rastlamak mümkündür. Ayrıca göçebe hayat tarzında görülen kitabe örneklerine Uygurlar Dönemi'nde de rastlanmıştır. Bu duruma Karabalğasun Kitabeleri, Sine Uşi Yazıtları örnek verilebilir.

Cevap E

2. Divan-ı Mezalim ağır siyasi suçların görüşülüp karara bağlandığı ve hükümdar başkanlığında toplanan divanın adıdır. Ayrıca bu divanda halkın şikâyetleri de dinlenirdi. Arazi kayıtlarının tutulmasından sorumlu olan ve başında pervane-cinin bulunduğu divan Divan-ı Pervane'dir.

Cevap C

3. Soru öncüllerinde verilen özellikler Memlûkler (Kölemenler) Devleti'yle ilgilidir.

Tolunoğulları 868-905 yılları arasında yaşamış olan bir Türk-İslam devletidir.

Akşitler (İhşitler) 935-969 yılları arasında yaşamış olan bir Türk-İslam devletidir.

Eyyûbiler 1174-1250 yılları arasında yaşamış olan bir Türk-İslam devletidir.

Harzemşahlar 1097-1231 yılları arasında yaşamış olan bir Türk-İslam devletidir.

Cevap D

4. Soru öncüllerinde yer alan ifadelerin tamamı (yazı=hat, hayvan figürleri, bitkisel ve geometrik motifler) Selçuklu süsleme sanatında yararlanılan unsurlar arasındadır. Bu konuyla ilgili Millî Eğitim Bakanlığı Sanat Tarihi-2 Ders Kitabı'nın 46. sayfasına bakılabilir.

Cevap E

5. Osmanlı Devleti'nde Kuruluş Dönemi 1299 - 1453 yılları arasını kapsar. Bu dönem padişahları ise;

- Osman Bey,
- Orhan Bey,
- I. Murat (Hüdâvendigâr),
- I. Bayezit (Yıldırım),
- I. Mehmet (Çelebi),
- II. Murat'tır.

Ayrıca II. Mehmet'in (Fatih) ilk iki yılı Kuruluş Dönemi içerisindedir. I. Selim (Yavuz) ise Yükselme Dönemi padişahları arasında olmakla beraber 1512-1520 yılları arasında padişahlık yapmıştır.

Cevap A

6.

- I. Hint Deniz Seferi→ Süleyman Paşa (1538)
- II. Hint Deniz Seferi→ Piri Reis (1551)
- III. Hint Deniz Seferi→ Murat Reis (1552)
- IV. Hint Deniz Seferi→ Seydi Ali Reis (1553)

Cevap A

7. Osmanlı Devleti'nde kız rüştiyelerinin açılması Tanzimat Dönemi gelişmeleri arasındadır. Tanzimat Dönemi ise 1839 - 1876 yılları arasını kapsar. Rüştiye, ortaokul anlamına gelmektedir. II. Mahmut Dönemi'nde rüştiyelerin açıldığı bilgisi doğrudur. Ancak B seçeneğinde yer alan ifade "kız rüştiyeleri" olduğu için bu bilgi II. Mahmut'la ilgili değildir.

Cevap B

8. Osmanlı Devleti'nde önemli konuların görüşülüp, tartışıldığı yer Divan-ı Hümayun'dur. Divan-ı Hümayun Orhan Bey zamanında kurulmuştur. Divan-ı Hümayun'u kaldırarak yerine nazırlık sistemini getiren padişah ise II. Mahmut'tur. Divan üyelerinden olan defterdar her türlü mali işin yürütülmesinden sorumlu olmakla beraber Kalemiye sınıfına da mensuptur. Padişahın tuğrasını çeken Divan-ı Hümayun üyesi ise Nişancı'dır.

Cevap B

9. Osmanlı Devleti'nde vergi gelirlerinin toplanmasının belirli bir süre için ve açık artırma yoluyla ihalesi usulüne iltizam, ihaleyi alan kişiye verilen isim ise mültezimdir.

Mütevelli, bir vakfın yönetiminin verilmiş olduğu kişiye veya vakıf yöneticisine verilen isimdir.

Müsadere, devletin ferdin malına el koymasına verilen isimdir.

Muhtesip, esnafı denetleyen, ticari hayatın işleyişini kontrol eden kişiye verilen isimdir.

Cevap D

10. XVII. yy. Osmanlı Devleti'nin Duraklama Dönemi'yle ilgilidir. Bu dönemde I. Ahmet (1603-1617) Ekber ve Erşed Sistemi'ni getirmiştir. Ayrıca IV. Mehmet Dönemi (1648-1687) sadrazamlarından Tarhuncu Ahmet Paşa modern ilk denk bütçeyi oluşturmuştur. 1683'te Merzifonlu Kara Mustafa Paşa tarafından Viyana ikinci kez kuşatılmış ancak Osmanlı Devleti başarılı olamamıştır. Bunun üzerine Avusturya, Lehistan, Rusya, Venedik ve Malta Osmanlı'ya karşı "Kutsal İttifak"ı kurmuşlardır. Osmanlı Devleti Kutsal İttifakla on altı yıl savaşmıştır. Bu savaşlar beraberinde 1699 Karlofça Antlaşması'nı getirmiştir.

Cevap E

11. Osmanlı Devleti 1699 Karlofça Antlaşması ve 1700 İstanbul Antlaşması ile büyük çapta toprak kaybı yaşamıştır. Osmanlı Devleti 18. yy. da başlangıçta bu antlaşmalarla kaybettiği toprakları geri alma politikası izlemiştir. Bu çerçevede III. Ahmet Dönemi'nde (1703 -1730) Rusya ile 1711'de imzalanan Prut Antlaşması'yla daha önce yapılan İstanbul Antlaşması'yla Rusya'ya verilen haklar (Azak Kalesi'nin Rusya'ya verilmesi, Rusya'nın İstanbul'da elçi bulundurabilmesi gibi) geri alındı. Kazanılan bu başarıdan sonra Karlofça Antlaşması'nın kayıplarının giderilebileceği düşüncesi oluştu. Ancak bu düşünce 1718 Pasarofça Antlaşması'yla sona ermiştir.

Cevap D

12. Sekban-ı Cedit Ocağı II. Mahmut Dönemi'nde (1808 -1839) Alemdar Mustafa Paşa tarafından kurulmuştur. Dolayısıyla bu gelişme 19.yy. ile ilgilidir.

Cevap C

13. Osmanlı Devleti'nde Tanzimat Dönemi 1839-1876 yılları arasında kapsar. Bu dönemde Sultan Abdülmecit (1839-1861) ve Sultan Abdülaziz (1861-1876) ön plana çıkar. Vilayet Nizamnamesi'nin yayımlanması (1864), Memleket Sandıklarının kurulması (1863), Darüfünunun açılması (1870) gelişmeleri Sultan Abdülaziz'le ilgilidir. Halkın genel yönetime kısıtlı olsa da katılması (1876), Halepa Fermanı'nın yayımlanması (1878) gelişmeleri ise II. Abdülhamit Dönemi gelişmeleri arasındadır.

Cevap D

14. İtalya siyasi birliğini Piyemonte öncülüğünde 1870'de, Almanya ise siyasi birliğini Prusya öncülüğünde 1871'de sağlamıştır.

Cevap E

15. Amasya Görüşmeleri, İstanbul Hükümeti adına Bahriye Nazırı Salih Paşa ile Temsil Heyeti adına Mustafa Kemal Paşa, Bekir Sami Bey ve Rauf Orbay arasında gerçekleşmiştir. Bu görüşmeler gerçekleştiğinde İstanbul Hükümetinin başında Ali Rıza Paşa bulunuyordu.

Cevap D

16. Konya çevresinde Delibaş Mehmet ve Bozkır ayaklanmaları çıkmıştır. Demirci Mehmet Efe düzenli orduya katılmak istemediği için Isparta ve çevresinde ayaklanmıştır.

Cevap B

17. II. İnönü Savaşı'nın sonuçları:

- Fransızlar Zonguldak'ı boşaltmıştır.
- İtalyanlar Anadolu'dan çekilmeye başlamıştır.
- Fransızlar anlaşma teklifinde bulunmuştur.
- İngiltere kırk Malta esirini serbest bırakmıştır.
- TBMM'ye ve düzenli orduya olan güven artmıştır.
- Mustafa Kemal Paşa, İnönü'ye "Siz orada sadece düşmanı değil milletin makus talihini de yendiniz." telgrafını çekerek İnönü'yü onurlandırmıştır.

Cevap B

18. Saltanat 1 Kasım 1922'de kaldırılmıştır.

Saltanatın kaldırılmasında;

- İtilafların Lozan'da ikilik çıkarma düşünceleri,
- saltanatın ulus egemenliğine ters olması,
- saltanatın Millî Mücadele'yi olumsuz etkilemesi gibi durumlar etkili olmuştur.

Saltanatın kaldırılması sonraki süreçte cumhuriyetin ilan edilmesine ve halifeliğin kaldırılmasına zemin hazırlamıştır. Dolayısıyla bu iki gelişme saltanatın kaldırılmasının sonuçları arasında yer alır.

Cevap A

19.

- Şapka Kanunu → 25 Kasım 1925
- Miladi Takvimin Kabulü → 26 Aralık 1925
- Uluslararası uzunluk ve ağırlık birimlerinin kabulü → 1 Nisan 1931
- Soyadı Kanunu → 21 Haziran 1934
- Hafta tatilinin cuma gününden pazar gününe alınması → 27 Mayıs 1935

Cevap B

20.

- Sanayi ve Maadin Bankasının kurulması → 1925
- Reji (tütün) İdaresinin satın alınması → 1925
- Teşvik-i Sanayi Kanunu'nun çıkarılması → 1927
- Merkez Bankasının kurulması → 1930
- I. Beş Yıllık Sanayi Planı'nın hazırlanması → 1933

Cevap C

21. 1924 Anayasası 20 Nisan'da kabul edilmiştir. 105 maddeden oluşur. Bu anayasada özellikle 1928'de ve 1937'de yapılan değişiklikler anayasanın laikleşmesi açısından önemlidir. I. öncülde yer alan "Türkiye Devleti'nin cumhuriyetçi, milliyetçi, halkçı, devletçi, laik ve inkılapçı" olduğunun belirtilmesi 5 Şubat 1937'de yapılan bir değişikliktir. III. öncülde yer alan "Devletin dini İslam'dır." hükmünün çıkarılması 10 Nisan 1928'de yapılan bir değişikliktir. II. öncülde yer alan "Türkiye Devleti'nin yönetim biçimi Cumhuriyet'tir." ibaresinin eklenmesi ifadesi ise 1921 Anayasası'nda 29 Ekim 1923'te yapılan bir değişikliktir. Zira 1924 Anayasası'nda "Devletin yönetim şekli Cumhuriyet'tir." ifadesi zaten mevcuttur. Yani sonradan eklenen bir ibare değildir.

Cevap D

22. Türk Medeni Kanunu 17 Şubat 1926'da kabul edilmiş, 4 Ekim 1926'da yürürlüğe girmiştir. Bu kanunda kadınlara siyasi hak tanınmamıştır. Ancak bunun yolu açılmıştır diyebiliriz. Zira Medeni Kanun'la birçok alanda kadın-erkek eşitliği sağlanmıştır. Kadınlara siyasi hakların verilmesinin kronolojisi ise şu şekildedir:

- 1930'da → Belediye seçimlerine katılma
- 1933'te → Muhtarlık seçimlerine katılma
- 1934'te → Vekillik seçimlerine katılma

Cevap D

23. Eğitim-öğretimde birliğin sağlanması 3 Mart 1924'te kabul edilen Tevhid-i Tedrisat Kanunu'yla ilgilidir.

Cevap A

24. Yeni Türk harfleri 1 Kasım 1928'de kabul edilmiştir. Bu inkılap hareketi; okuma-yazmanın kolaylaşması boyutuyla "halkçılık" ilkesiyle, dilde reformun yolunu açarak Türkçeleştirme akımına hız vermesi boyutuyla "milliyetçilik" ilkesiyle, Batı medeniyetleriyle ilişkilerin gelişmesinde büyük faydalar sağlanması boyutuyla "inkılapçılık" ilkesiyle, Arap kültürünün Türk kültürü üzerindeki etkinliğinin kırılması boyutuyla "milliyetçilik" ve "laiklik" ilkeleriyle ilişkilendirilebilir.

Cevap E

25. 1929 Dünya Ekonomik Krizi; bu krizin merkezi olan ABD başta olmak üzere gelişmiş ülkelerde borsaların çökmesi, banka ve şirketlerin batmasına, işsizliğin yaygınlaşmasına dünya ticaretinin gerilemesine ve para ekonomisinin yerini takas ekonomisine bırakmasına neden oldu. Ancak krizin ABD'nin bölünmesine neden olduğu söylenemez.

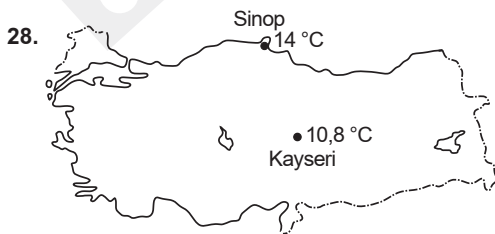
Cevap B

26. II. Dünya Savaşı'nda insan hakları yaygın bir şekilde ihlal edildi. Ele geçirilen savaş esirlerine; farklı görüş, ırk ve dinlerden olan sivillere akıl almaz işkenceler yapıldı. Yargısız infazlar ve katliamlar gerçekleştirildi. Birleşmiş Milletler Teşkilatı insanlık dışı bu uygulamaları soykırım olarak adlandırdı. 9 Aralık 1945'te "Soykırım Suçunun Önlenmesi ve Cezalandırılmasına İlişkin Sözleşme"yi onaylayan Birleşmiş Milletler Teşkilatının Genel Kurulu, 10 Aralık 1948'de de hâlen yürürlükte olan "İnsan Hakları Evrensel Beyannamesi"ni kabul etti.

Cevap D

27. Bauhaus, XX.yüzyılda Almanya'da ortaya çıkan, bu akımı savunanların Nazilerin baskısıyla ülkeyi terk etmelerine bağlı olarak başka ülkelere de yayılan, mimaride endüstriyel tasarımda ve şehir planlamasında yenilikler getiren ve mimariyi tüm sanatların birleştiği en yüksek nokta olarak kabul eden bir akımdır. Bauhaus'un ABD'de yapılan ilk gökdelen olduğu açıklaması yanlıştır.

Cevap A

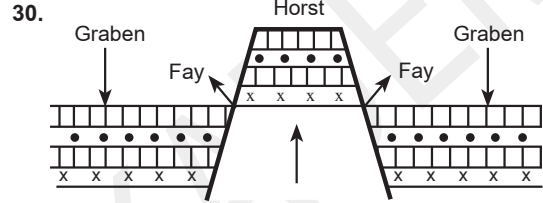


Haritada Kayseri'den Sinop'a gidikçe sıcaklık ortalamalarının enleme bağılı olarak azalması gerekir ancak yükselti ve denize göre konum etkisiyle sıcaklık ortalamalarının azalmayıp arttığı görülür.

Cevap E

29. Erozyon, toprağın dış kuvvetlerden akarsular ve rüzgâr tarafından aşındırılarak süpürülmesiyle gerçekleşen doğa olayıdır. Eğimli arazi yapısı, bitki örtüsünün yetersizliği, bölgeye düşen yağış miktarı gibi faktörler erozyonun şiddeti üzerinde etkilidir. Ancak fay hatlarının yaygınlığı erozyon üzerinde değil deprem üzerinde etkilidir.

Cevap C



Şekilde, sert yapıdaki tortul tabakaların yan basınçlar nedeniyle kırılarak oluşturduğu horst ve graben sistemi yer almaktadır. Bu yer şeklinin etkili olduğu yörelerde (Kıyı Ege) alçak bloklar tarım alanı olarak kullanılabilen, sıcak su kaynakları bakımından zenginlik göstermektedir. Fay hatlarının yaygınlığı söz konusu olmakta iken volkanik göllerin yaygın olması doğru bir bilgi değildir. Ülkemizde volkanik göller Doğu Anadolu'da yaygınlık gösterir.

Cevap D

31. Kimyasal çözünmenin etkili olduğu yörelerde; bitki örtüsü gür, nem oranı fazla olduğundan toprak oluşumu daha çabuk ve hızlı gerçekleşir. Günlük sıcaklık farkı çok olan yerlerde mekanik çözülme; sıcaklık ve yağış miktarının fazla olduğu yerlerde ise kimyasal çözünme toprak oluşumuna neden olmaktadır. Verilen yörelerde yaşanan bu süreçler düşünüldüğünde Doğu Karadeniz'de kimyasal çözünme daha fazladır.

Cevap C

32. Türkiye'de nüfus yoğunluğunun en az olduğu il Tunceli'dir. Tunceli'de 2014 verilerine göre km²'ye 12 kişi düşmektedir.

Cevap D

33. Sektörel dağılım denilince sanayi, hizmet, tarım gibi iş kollarındaki oranlar anlatılmaktadır. Sektörel dağılımda ülkenin gelişmişliği hakkında bilgi elde edilir. Örneğin sanayi ve hizmet sektöründeki oranın fazlalığı söz konusu ise ülkenin gelişmişliğinden söz edilir. Ülkenin toplam nüfusu ve sektörlerdeki kadın-erkek sayılarına verilen bilgilerden ulaşılmaz.

Cevap B

34. Fizyolojik Nüfus Yoğunluğu = $\frac{\text{Toplam Nüfus}}{\text{Ekili-dikili arazi}}$

formülü ile elde edilir.

Buna göre toplam nüfus ile tarım alanlarının yüz ölçümünü bilmek gerekir.

Cevap D

35. Ekstansif tarım geniş alanların ekilerek az verim elde edildiği, üretimin doğal koşullara bağlı olduğu tarım yöntemidir.

Kış ılıklığı ve bol su isteyen bir tarım ürünü olarak mısırın ekstansif tarım metodunun uygulandığı bir yörede yetişmesi daha zordur.

Cevap E

36. Verilen oranların dağılışı incelendiğinde bu ürünün kırmızı mercimek olması beklenir. Nem isteği az ve kuraklığa dayanıklı tarım ürünü olan mercimek en fazla Güneydoğu Anadolu Bölgesi'nde yetiştirilmektedir.

Cevap A

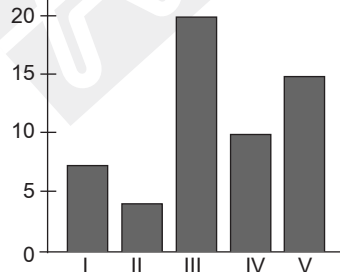
37. Türkiye'de koyun yetiştiriciliğinin yapıldığı yerlerde yer şekilleri sade, bozkırlar geniştir. Orman örtüsünün bulunduğu alanlar ise arıcılık ve sığır yetiştiriciliği için uygun ortamlardır.

Cevap C

38. Mersin Limanı Türkiye'nin üçüncü büyük limanı olup yükleme ve boşaltma kapasite bakımından ilk sıralarda yer alır. Daha çok ihracat limanı özelliği taşıyan Mersin Limanı'nda Orta Doğu'ya yönelik ihracat yapılır.

Cevap E

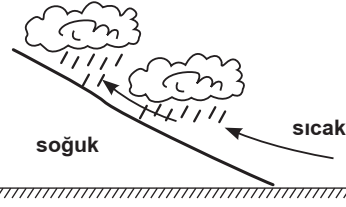
39. Nem miktarı (gr/m^3)



Nem miktarı deniz, göl ve akarsu çevrelerinde fazladır. Havanın aşırı ısınıp soğumasını engellediği için nemin fazla olduğu alanlarda sıcaklık farkı azdır. Buna göre ısınma ve soğumanın yavaş, günlük sıcaklık farkının az olduğu merkez nemin fazla olduğu III numaralı alandır.

Cevap C

40.



Şekilde oluşumu gösterilen hava olayı frontal yani cepheli yağışlardır.

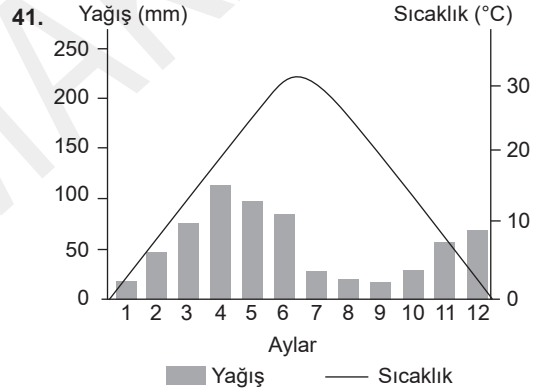
Sıcak ve soğuk hava kütlelerinin karşılaştığı alanlarda görülür.

Türkiye'de görülme nedeni mutlak konumdur. Türkiye'nin enlemine bağlı olarak Orta Kuşak'ta bulunması nedeniyle görülen yağıştır.

Bu yağış oluşumu ülkemizde özellikle kış mevsiminde etkilidir.

Akdeniz, Ege ve Güney Marmara kıyılarında etkilidir.

Cevap A



Verilen grafik karasal iklimin etki alanına aittir. Buna göre bu sıcaklık ve yağış grafiğine sahip yörede kırkikinci yağışlarının etkili olması, bozkırlara rastlanması, küçükbaş hayvancılığın yaygın olması, sıcaklık farkının fazla olması, kahverengi bozkır topraklarının varlığı gibi özellikler görülürken en fazla yağış ilkbahar, en az yağış ise yaz mevsiminde düşer.

Cevap C

42. Fosil yakıtlar ile çalışan (linyit, petrol, taş kömürü, doğalgaz) santraller havaya karbondioksit salınım yaparlar. Ancak doğal gazın bu salınımı daha düşüktür.

Rüzgar hidrolik jeotermal ve santraller ise hava kirliliğine neden olmazlar.

Soruda verilen

- Sarayköy jeotermal
- Alaçatı rüzgâr
- Hamitabat doğalgaz
- Deriner hidrolik

ile çalışan enerji santralleridir. Ancak Soma termik santrali linyit ile çalıştığı için hava kirliliğine neden olur.

Cevap E

43. Verilen kentlerden Gaziantep, İzmir, İskenderun ve Kırık-kale'de insan etkinliklerine bağlı ekolojik dengenin bozulması oranı daha fazla iken sanayinin gelişmediği Ardahan'da bu pay daha azdır.

Cevap D

44.

- Sultan Ahmet Camii
- Galata Kulesi
- Yerebatan Sarnıcı
- Ayasofya

İstanbulun Avrupa Yakası'nda yer alan turistik mekânlardır. Ancak Kız Kalesi Mersin ilinde yer alır.

Cevap E

45. Verilen eşleştirmelerden taş kömürü yatakları Karadeniz, doğal gaz Marmara ve jeotermal Ege Bölgesi'nde önemli yatakları bulunan enerji kaynaklarıdır.

Cevap B

46. Yazılı hukuk kuralları:

- Anayasa
- Temel hak ve özgürlükler alanındaki uluslararası antlaşmalar
- Kanunlar, Kanun Hükmünde Kararnameler
- Tüzükler
- Yönetmelikler

İçtihatlar, yardımcı kaynaklar arasındadır.

Cevap B

47. Hak aslında, hukuk düzeni tarafından kişilere tanınmış olan yetkileri ifade eder. Başka bir tanım ise hukuk tarafından tanınan, yararlanılması hak sahibinin iradesine bırakılan ve korunmasını isteme hususunda bireyin yetkili sayıldığı menfaatlerdir.

Cevap A

48. Bir hakkın kullanılmasında, borcun ifasında ve sözleşmelerin tahvilinde geçerli olan ana ilke dürüstlük kuralıdır.

Cevap E

49. **Yumuşak anayasa**, normal kanunlarla aynı usullerle ve aynı organlarca değiştirilebilen anayasadır.

Katı anayasa, normal kanunlardan daha farklı organlarca ve daha zor usullerle değiştirilebilen anayasadır.

Yazılı anayasa, bir anayasa içinde olması düşünülebilecek kuralların yetkili bir organ tarafından belirli bir belge içinde toplanmasıdır.

Kazuistik anayasa, uzun ve ayrıntılı kurallardan oluşan, kesin hükümlerin belirlendiği anayasadır.

Çerçeve anayasa, kısa ve öz hükümlerden oluşur.

Cevap B

50. Türkiye Büyük Millet Meclisi, Bakanlar Kuruluna Kanun Hükmünde Kararname çıkarma yetkisi verebilir. Yetki Kanunu, çıkarılacak Kanun Hükmünde Kararname'nin amacını, kapsamını, ilkelerini, kullanma süresini ve süresi içinde birden fazla Kararname çıkarılıp çıkarılmayacağını gösterir. Bakanlar Kurulunun istifası, düşürülmesi veya yasama döneminin bitmesi, belli süre için verilmiş olan yetkinin sona ermesine sebep olmaz. Kanun Hükmünde Kararname'nin, Türkiye Büyük Millet Meclisi tarafından süre bitiminden önce onaylanması sırasında, yetkinin son bulunduğu veya süre bitimine kadar devam ettiği de belirtilir. Sıkıyönetim ve olağanüstü hâllerde, cumhurbaşkanının başkanlığında toplanan Bakanlar Kurulunun Kanun Hükmünde Kararname çıkarmasına ilişkin hükümler saklıdır. Kanun Hükmünde Kararnameler, Resmî Gazete'de yayımlandıkları gün yürürlüğe girer. Ancak kararnamede yürürlük tarihi olarak daha sonraki bir tarih de gösterilebilir. Kanun Hükmünde Kararnameler, Resmî Gazete'de yayımlandıkları gün Türkiye Büyük Millet Meclisine sunulur.

Cevap A

51. Cumhurbaşkanının yürütme alanına ilişkin görevleri şunlardır:

- Başbakanı atamak ve istifasını kabul etmek
- Başbakanın teklifi üzerine bakanları atamak ve görevlerine son vermek
- Gerekli gördüğü hâllerde Bakanlar Kuruluna başkanlık etmek veya Bakanlar Kurulunu başkanlığı altında toplantıya çağırarak
- Yabancı devletlere Türk Devleti'nin temsilcilerini göndermek, Türkiye Cumhuriyeti'ne gönderilecek yabancı devlet temsilcilerini kabul etmek
- Milletlerarası antlaşmaları onaylamak ve yayımlamak
- Türkiye Büyük Millet Meclisi adına Türk Silahlı Kuvvetlerinin Başkomutanlığını temsil etmek
- Türk Silahlı Kuvvetlerinin kullanılmasına karar vermek
- Genelkurmay başkanını atamak
- Millî Güvenlik Kurulunu toplantıya çağırarak
- Millî Güvenlik Kuruluna başkanlık etmek
- Başkanlığında toplanan Bakanlar Kurulu kararıyla sıkıyönetim veya olağanüstü hâl ilân etmek ve Kanun Hükmünde Kararname çıkarmak
- Sürekli hastalık, sakatlık ve kocama sebebi ile belirli kişilerin cezalarını hafifletmek veya kaldırmak
- Devlet Denetleme Kurulunun üyelerini ve başkanını atamak
- Devlet Denetleme Kuruluna inceleme, araştırma ve denetleme yaptırmak

Anayasa değişikliklerine ilişkin kanunları gerekli gördüğü takdirde halkoyuna sunmak ise yasamayla ilgili bir görevdir.

Cevap D

52. İdari yargı kolunda görevli olan mahkemeler üç dereceye ayrılmıştır:

- İlk derece idare mahkemeleri ve vergi mahkemeleridir.
- İkinci derece bölge idare mahkemeleridir.
- İdari yargının en üst dereceli merci olan Danıştaydır.

Cevap C

53. Hizmet yönünden yerinden yönetim kuruluşları, teknik bilgi ve uzmanlık isteyen belli bir hizmetin devlet ve mahalli idare tüzel kişiliği dışında örgütlenmesi ve tüzel kişiliğe kavuşturulması sonucu ortaya çıkan kuruluşlardır: Üniversiteler, TÜBİTAK, TODAİE, TRT, KİT'ler, PTT, İETT, EGO, ASKİ, SGK, Orman Genel Müdürlüğü, Vakıflar Genel Müdürlüğü, Devlet Tiyatroları Genel Müdürlüğü gibi. Belediyeler hizmet yerinden değil yerel yerinden yönetim kuruluşları arasındadır.

Cevap C

54. **Planlama**, idarenin öngörme ve seçenekler belirleme görevidir.

İç düzen faaliyetleri, idare teşkilatını yönetmek, personel temin etmek, personelini yetiştirmek, eğitmek ve gerekli gördüğü yerlerde ve hizmetlerde istihdam etmek, gereksinim duyduğu malları elde etmek, paraları sarf etmek için yapılan faaliyetlerdir.

Milli güvenlik, devletin bağımsızlık ve bütünlüğüne yönelik dış-ç iç tehdit ve tehlikelerden korumaktır.

Kamu hizmeti, idarenin, bir kamu tüzel kişisi tarafından veya onun denetimi altında bir özel hukuk tüzel kişisi tarafından kamu yararını amaçlayan bir faaliyettir.

Kolluk faaliyeti, idarenin kamu düzenini sağlamaya yönelik faaliyetidir. İdare bireylerin ve topluluklarının bazı uğraş ve faaliyetlerini kendi üstlenerek yürütür. İdare bunları ya tek başına veya bireyler ve topluluklar ile yan yana ve ortaklaşa olarak yürütür. Böylece kamu hizmetleri denilen faaliyetlerde bulunarak toplum yararını sağlar.

Cevap E

55. Türk edebiyatındaki ilk psikolojik roman olan "Eylül" adlı eserin yazarı Mehmet Rauf'tur.

Cevap D

56. Büyükşehir listesi:

Adana - Ankara - Antalya - Aydın - Balıkesir - Bursa - Denizli - Diyarbakır - Erzurum - Eskişehir - Gaziantep - Hatay - İstanbul - İzmir - Kahramanmaraş - Kayseri - Kocaeli - Konya - Malatya - Manisa - Mardin - Mersin - Muğla - Ordu - Sakarya - Samsun - Şanlıurfa - Tekirdağ - Trabzon - Van'dır.

Görüldüğü üzere Elazığ, büyükşehir belediyesi olan illerden değildir.

Cevap B

57. Bir Nükleer Felaketin Sözlü Tarihi, Çernobil'den Sesler, Nazi İşgalinde Sovyet Kadınları, Savaşın Kadına Aykırı Yüzü, Çinko Çocuklar kitaplarının yazarı Svetlana Aleksiyeviç 2015 Nobel Edebiyat ödülünün de sahibidir.

Cevap B

58. 2016 Yaz Olimpiyatları, 5-21 Ağustos 2016 tarihleri arasında Brezilya'nın ikinci en büyük kenti olan Rio de Janeiro'da düzenlenecektir.

Cevap C

59. Dünyada hasılat rekorları kıran "Yüzüklerin Efendisi" filminde rol alan ABD'li aktör ve film yapımcısı Elijah Wood, EXPO 2016 kapsamında DJ performansı için geldiği Antalya'da, EXPO 2016 alanını ziyaret etti ve ağaç dikti.

Cevap E

60. Almanya'nın başkenti Berlin'de her sene yapılan "Young Euro Classic" müzik festivali kapsamında verilen "Avrupa'nın En İyi Bestekar Ödülü" Sinem Altan'a verildi.

Cevap C

GENEL YETENEK

1.	D	21.	E	41.	C
2.	D	22.	E	42.	A
3.	D	23.	D	43.	B
4.	C	24.	C	44.	C
5.	C	25.	A	45.	B
6.	A	26.	D	46.	D
7.	B	27.	C	47.	B
8.	A	28.	B	48.	A
9.	C	29.	A	49.	C
10.	E	30.	A	50.	B
11.	D	31.	C	51.	A
12.	E	32.	B	52.	B
13.	B	33.	B	53.	D
14.	D	34.	B	54.	B
15.	C	35.	D	55.	C
16.	C	36.	C	56.	D
17.	D	37.	B	57.	E
18.	A	38.	A	58.	C
19.	C	39.	D	59.	A
20.	D	40.	A	60.	C

GENEL KÜLTÜR

1.	E	21.	D	41.	C
2.	C	22.	D	42.	E
3.	D	23.	A	43.	D
4.	E	24.	E	44.	E
5.	A	25.	B	45.	B
6.	A	26.	D	46.	B
7.	B	27.	A	47.	A
8.	B	28.	E	48.	E
9.	D	29.	C	49.	B
10.	E	30.	D	50.	A
11.	D	31.	C	51.	D
12.	C	32.	D	52.	C
13.	D	33.	B	53.	C
14.	E	34.	D	54.	E
15.	D	35.	E	55.	D
16.	B	36.	A	56.	B
17.	B	37.	C	57.	B
18.	A	38.	E	58.	C
19.	B	39.	C	59.	E
20.	C	40.	A	60.	C

