



KPSS

ORTAÖĞRETİM

GENEL YETENEK - GENEL KÜLTÜR
TESTİ

ORTAÖĞRETİM

4

ÇÖZÜM KİTAPÇIĞI

 PEGEM AKADEMİ

1. "Edebiyatın hayat damarlarının attığı, en inanmış edebiyat insanlarının kendini helak edercesine bu işe adanmış kutsal bir alandır şiir dergileri." cümlesinde "hayat damarlarının attığı" sözünde "canlılığı, gelişimi, yenilenmeyi sağlam vs." anlamlar kastedilmektedir. Buradan da "Tüm insani değerlerin yaşam bulduğu bir masal dünyası yaratmak istemiş-tim." cümlesindeki "yaşam bulduğu" sözüyle de benzer anlamlar ifade edilmiştir.

Cevap A

2. "Zekâ doğuştan gelen gücün çevre olanaklarıyla işlenmesi sonucu oluşur." cümlesinde zekânın nasıl oluştuğu hakkında bilgi verilmiştir. Bir öneri söz konusu değildir.

Cevap D

3. Paragrafın üçüncü cümlesinde "Anadolu Kavağı'nda gidilebilecek yerleri ve yenilebilecekleri önceden not etmiştim." gidilecek yerler ve yenilebileceklerle ilgili bir ifadeye yer verilmiştir. C seçeneğinde ise konaklamayla ilgili bilgi verildiği söylenmiştir. Paragrafın üçüncü cümlesinde konaklamayla ilgili bir bilgiye yer verilmemiştir.

Cevap C

4. Parçadaki "elektrik ve onun ayrılmaz parçası olan manyetizma ile ilgili gözlem ve düşünceler, MÖ 600'lü yıllara kadar uzatılabilir" cümlesinden elektrikle ilgili çalışmaların temelini MÖ 600'lü yıllara kadar gittiği ifadesine ve dolayısıyla bu çalışmaların yeni olmadığına kesin olarak ulaşılabılır.

Cevap B

5. Parçada "mühendis amcasının özel ilgisi olmasaydı belki de ----. Amca, yeğene cebir ve geometriyi sevdi." ifadesinde boşluktan sonraki bölümde cebir ve geometrinin sevildiğinden söz edildiğine göre boş bırakılan yere "öğreniminden tümüyle kopacaktı" ifadesi gelmelidir.

Cevap A

6. Numaralı cümlelerle anlamlı bir paragraf oluşturulduğunda sıralama III - I - IV - II - V şeklinde olmalıdır.

Cevap D

7. Parçanın ilk cümlesi ile II. cümlesi anlamca birbirini tamamlamaktadır. Bu iki cümlede endemik bitkiler açısından ülkemizin zengin bir ülke olduğu belirtilmektedir fakat III. cümlede "bu tahıllar" ifadesiyle farklı bir konuya geçilmektedir. İlk iki cümle anlamca birbirini tamamladığı için III. cümle yerini değiştirmek gerekir. III. cümleyle yer değiştirecek en uygun cümle V. cümledir çünkü V. cümlede de ülkemizin bitki potansiyeline yönelik bir ifade söz konusudur. V. cümle I. ve II. cümlelerin arkasına getirildiğinde parça anlamlı bir bütün oluşturur.

Cevap D

8. "Arkadaşım Necip Fazıl, Ankara'daki evinde birgün bana "Ben ne bulursam okurum." demişti." cümlesinde "birgün" ayrı yazılmalıdır.

Cevap D

9. I numaralı virgül "hem...hem" tekrarlı bağlaçların arasına girdiği için, IV numaralı virgül de "-dıkça, dikçe" zarf-fiil ekin-den sonra kullanıldığı için yanlış kullanılmıştır.

Cevap B

10. A seçeneğinde 'ben-e' "bana" kökte ünlü değişimi,
C seçeneğinde "uyu-kulu/ uyukulu" ünlü düşmesi,
D seçeneğinde "toprak-ı / toprağı" ünsüz değişimi,
E seçeneğinde "et-gi / etki" ünsüz benzeşmesi görülmektedir.

Cevap B

11. Cümlede birden çok tamlayanı olan isim tamlaması kullanılmıştır:

sanatseverlerin, tarihçilerin ve araştırmacıların / ilgisi
tamlayan tamlanan

Cümledeki "tutan, kalan" sözcükleri sıfat fiil, "çekmeye" sözcüğü ise isim fiildir dolayısıyla bu sözcüklerin hepsi fiilimsidir. Cümlede fiilimsiler kullanıldığı için de cümle bileşik yapı, yüklemi sonda olduğu için de kurallı bir cümledir.

Yüklemde geçen "devam etmek" ifadesi, "etmek" yardımcı fiiliyle kurulmuştur.

Cümlenin yüklemine "Devam eden ne?" sorusu sorulduğunda "Zamana kafa tutan bu kahramanın eserlerinin ve yaşamının karanlıkta kalan yanları" yanıtı alındığı için bu cümlenin gerçek bir öznesi vardır. Dolayısıyla cümle edilgen değil, etken çatılıdır.

Cevap D

12. II. sözcükte "mutfak-ı-n-a" şeklinde iyelik ve hal eki,
III. sözcükte "yahni-si-n-in" şeklinde iyelik ve ilgi eki,
IV. sözcükte "dış-ı-n-da" şeklinde iyelik ve hal eki,
V. sözcükte "tat-lar-ı-n-dan" şeklinde çokluk ve hal eki kullanılmıştır.

Cevap A

13. Parçada sözü edilen gösterilerin günümüzde ve yeni bir kurguyla yapıldığı anlaşılmaktadır. Parçanın başındaki "Altı bin yıllık birikimi yansıtan halk danslarını" ifadesinde de söz konusu dansların altı bin yıllık kültürün izlerini taşıdığı ifade edilmiştir. Buradan A seçeneğine ulaşılmaktadır.

Cevap A

14. Parçada esas olarak denizyıldızlarının fiziksel görünümü ve bu görünümlerin farklı olabileceği üzerinde durulmaktadır.

Cevap D

15. "Bu alanda çok fazla kaynak olmaması ..." ifadesinde sözü edilen kitabın yayımlanma gerekçesi belirtilmiştir.

Cevap B

16. Parçada, bir romanı "iyi roman" yapan özellikler arasında "ilginç ve her dönem geçerli bir konusunun olması" üzerine bir bilgi yoktur. Parçada ön plana geçirilen, romanın konusu değil, kurgusudur.

Cevap D

17. Parçada şemsiyelerin aslında güneşten korunmak için icat edildiği ama günümüzde yağmurdan korunma amaçlı olarak da kullanıldığından söz edilse bile bu iki işleve uygun farklı türden şemsiyeler üretildiği ya da güneşten ve yağmurdan korumaya yönelik farklı şemsiye türlerinin olduğu ile ilgili bir bilgi yoktur.

Cevap E

18. "Kendine güvensiz" sözünden A, "anne babaya bir şeyin olacağı korkusu" sözünden B, "öğretmen ve personelin tutumları" sözünden C, "yeni arkadaşlar edinmesi" sözünden E seçeneklerine ulaşılır.

Cevap D

19. Parçada "en eski bulgular XII. yy.a ait" sözünden A seçeneğine, "renkli cam parçalarından yapılan" sözünden B seçeneğine, "Türkler bu sanatı getirdiler" cümlesinden C seçeneğine, "İran üzerinden Türkiye'ye" sözünden D seçeneğine ulaşılabilir.

Cevap E

20. Parçada bazı sanatçı ve yazarların dili korumaları, geliştirmeleri gerekirken aksine dilin özelliklerini kaybetmesine neden olduklarından yakınılmıştır.

Cevap A

21. Parçadaki "İşte bu eğilimler maalesef ortoreksiya nervoza yeme bozukluğunun habercisi olabilir." ifadesinde sağlıklı beslenme kaygısının çeşitli sağlık sorunlarına yol açabileceği belirtilmiştir.

Cevap C

22. IV. cümledeki "Kaygı arttıkça yaşam kalitesi düşüyor." ifadesinde koşul belirtilmiştir.

Cevap B

23. Parçanın bütününde sözü edilen yazarın kendini sürekli yenileme çabası içinde olduğu, monotonluktan ve durağanlaşmaktan korktuğu ifade edilmiştir. Buradan A, B, C ve D seçeneğine ulaşılabilir. Fakat sanatçının okuruna yönelik bir ifadeye parçada yer verilmemiştir.

Cevap E

24. Parçadaki "Şöyle düşünüyorum: Bence sanatçının bir yerde kalması işi ticarete dökmek olur." ifadesinde yazarın asıl kaygısı dile getirilmiştir.

Cevap C

25. Parçadaki "ilk dans gösterisi 1524 yılında Kanuni Sultan Süleyman'ın emri ve izniyle İstanbul'daki Venedik elçisinin evinde..." cümlesinden A seçeneğine, "... Aya Yorgi'de gerçekleştirdiği şölende 900 oyunculu bir topluluk 'Ejderha Kavgası' adlı mimbaleyi..." cümlesinden B seçeneğine, "... Donizetti Osmanlı sarayına Batı müziği ilkelerinin yanı sıra..." cümlesinden D seçeneğine, "Türklerin sahnede boy göstermeleri ise 17. yüzyılın ilk yarısında başlamıştır." cümlesinden E seçeneğine ulaşılabilir. "Sergilenen ilk opera kendisi de bir şair ve kompozitör olan III. Selim zamanındaymış." cümlesinden C seçeneğine ulaşamaz.

Cevap C

26. Bu parçada savunulan görüş paragrafın ilk cümlesinde verilmiştir: "Osmanlı Batılı sanatlarla bizim bildiğimizden çok önce tanışmıştır."

Cevap A

27. Parçadaki "... ilk dans gösterisi 1524 yılında...", "... 1582 III. Murat'ın İstanbul Aya Yorgi'de ..." "... 1828'de İstanbul'a çağrılan Donizetti..." söylemleri parçanın anlatımında nesnel verilere yer verildiğini göstermektedir.

Cevap A

28.

Kırşehir	İzmir	Ankara	Malatya	Denizli	Sivas	Tokat
B L	L B	Kadir	Deniz	Ahmet Emir Gülçin İsmail	Gülçin İsmail Ahmet Emir	Murat

- I. Her ilden ikişer kişi gelmiştir.
- II. Denizli veya Sivas'tan Ahmet - Emir ikilisi veya Gülçin-İsmail ikilisi gelmiştir.
- III. Diğer illerden tabloda da görüldüğü gibi bir kişi gelmiştir. İkinci kişiler daha belli değildir.

Tabloya da bakıldığında A ve C ihtimalleri hemen görülür. Nilgün'ün Ankara'dan gelme ihtimali vardır. Lale Kırşehir veya İzmir'den gelmiştir. Gülçin de Denizli veya Sivas'tan gelmiştir. Dolayısıyla E seçeneği zaten doğrudur. Bu durumda "Hilal ve Orhan aynı ilden gelmiştir." seçeneği yanlıştır.

Cevap D

29. Emir'in Kırşehir'den, Hilal'in Malatya'dan gelme ihtimalleri vardır. Gülçin'in de Denizli'den gelme ihtimali vardır. Ama bu durumların gerçekleşmeme ihtimali de var. Cenk ve Nilgün farklı illerden gelemez. Çünkü her ilde bir isim zaten var. Farklı illerden gelme durumu söz konusu olamaz.

Cevap E

30. Fatih, Tokat'tan gelirse Hilal Denizli veya Sivas'tan gelmiş olamaz.

Cevap B

$$\begin{aligned}
 31. \quad 2 - \frac{0,8 - 0,08}{0,4 - 0,04} &= 2 - \frac{80 - 8}{40 - 4} \\
 &= 2 - \frac{72}{36} \\
 &= 2 - 2 \\
 &= 0
 \end{aligned}$$

Cevap E

$$\begin{aligned}
 32. \quad 5 + \frac{6}{2 + \frac{1}{x}} = -1 &\Rightarrow \frac{6}{2 + \frac{1}{x}} = -6 \Rightarrow -12 - \frac{6}{x} = 6 \\
 &\Rightarrow -18 = \frac{6}{x} \\
 &\Rightarrow -18x = 6 \\
 &\Rightarrow x = -\frac{1}{3} \text{ bulunur.}
 \end{aligned}$$

Cevap C

$$\begin{aligned}
 33. \quad \frac{\sqrt{96} + \sqrt{24}}{\sqrt{150} - \sqrt{54}} &= \frac{4\sqrt{6} + 2\sqrt{6}}{5\sqrt{6} - 3\sqrt{6}} \\
 &= \frac{6\sqrt{6}}{2\sqrt{6}} \\
 &= 3
 \end{aligned}$$

Cevap D

$$34. \quad \sqrt{6} < x < \sqrt{7}$$

$$6 < x^2 < 7$$

seçeneklerin karesi alındığında 6 ile 7 sayıları arasında olan doğru cevaptır.

$$\left(\frac{5}{2}\right)^2 = \frac{25}{4}$$

$$6 < \frac{25}{4} < 7$$

Cevap D

35. a ile b'ye eşit uzaklıkta olan sayılar x olsun. a'nın x'e olan uzaklığı $|x - a|$, b'nin x'e olan uzaklığı $|x - b|$ 'dir.

$$|x - a| = |x - b| \text{ veya } |a - x| = |b - x|$$

Cevap C

36.

I. $\frac{a}{b} \rightarrow$ negatiftir ama tam sayı olmayabilir.

II. $a + b$ pozitif de negatif de olabilir.

III. $b - a$ her zaman negatiftir.

IV. $a \cdot b$ her zaman negatiftir.

Bu durumda, III ve IV her zaman doğrudur.

Cevap B

37. $4a + 5b + c = 80$
 $-2a - 3b - c = -36$
 $+$
 $2a + 2b = 44$
 $a + b = 22$ bulunur.

Cevap A

38. $80 = 2^3 \cdot 2 \cdot 5$
 $a = \sqrt[3]{2^3 \cdot 2 \cdot 5 \cdot b}$
 $\downarrow \downarrow$
 $2^2 \ 5^2$
 $b = 2^2 \cdot 5^2$
 $b = 100$

Cevap E

39. $43AB \overline{) 21}$
 $\underline{42} \quad \underline{205}$
 $\quad \underline{120} \quad \downarrow \downarrow \downarrow$
 $\quad \underline{105} \quad A \ B \ C$
 $\quad \quad \quad \underline{15}$

$A + B + C = 2 + 0 + 5 = 7$ bulunur.

Cevap A

40. $2^{x+3} + 2^{x+2} + 2^{x+1} + 2^x = 120$
 $2^x(2^3 + 2^2 + 2 + 1) = 120$
 $2^x \cdot 15 = 120$
 $2^x = 8$
 $x = 3$

Cevap B

41. $x^2 + y^2 = 4z$
 $(x - y)^2 + 2xy = 4z$
 $(x - y)^2 = 4z - 2xy$
 $(x - y)^2$ her zaman sıfır ya da sıfırdan büyüktür.
 $4z - 2xy \geq 0$
 $4z \geq 2xy$
 $2z \geq xy$
 $z \geq \frac{xy}{2}$

Cevap C

42. Bugünkü yaşları ortalaması $26 + 4 = 30$ olur.

$30 = \frac{150}{x}$
 $x = 5$ kişidir.

Cevap B

$$43. \left| \begin{array}{c} \%48 \\ A \text{ gram} \end{array} \right| + \left| \begin{array}{c} \%100 \\ 60 \text{ gram} \end{array} \right| + \left| \begin{array}{c} \%0 \\ x \text{ gram} \end{array} \right| = \left| \begin{array}{c} \%48 \\ A + 60 + x \end{array} \right|$$

$$A \cdot 48 + 60 \cdot 100 + x \cdot 0 = (A + 60 + x) \cdot 48$$

$$48A + 60 \cdot 100 + 0 = 48A + 60 \cdot 48 + 48x$$

$$52 \cdot 60 = 48x$$

$$x = 65 \text{ gram su eklenmiştir.}$$

Cevap E

44. 8 kişiden önce bir başkan seçilir. Sonra kalan 7 kişiden de 2 üye seçilir. Bu da kombinasyonla hesaplanır.

$$\binom{8}{1} \cdot \binom{7}{2} = 8 \cdot \frac{7 \cdot 6}{2!}$$

$$= 168$$

Cevap E

45. Yanlış = x tane

$$\text{Doğru} = 20 - x \text{ tane}$$

$$20(20 - x) - 10x = 250$$

$$400 - 20x - 10x = 250$$

$$150 = 30x$$

$$x = 5 \text{ yanlış}$$

Cevap B

46. $(k + 2)$ binip $(k - 1)$ inince her durakta $(k + 2) - (k - 1) = +3$ yolcu binmiş olur.

$$\frac{1.}{k} \quad \frac{2.}{+3} \quad \frac{3.}{+3} \quad \frac{11.}{+3}$$

10 tane

$$k + 30 = 57$$

$$k = 27$$

Cevap A

47. Maliyet x TL olsun.

$$\text{Etiket fiyatı} = \frac{105x}{100}$$

$$\frac{105x}{100} + 84 = \frac{112x}{100}$$

$$84 = \frac{7x}{100}$$

$$x = 1200$$

Cevap C

48. $a \cdot b = 6(a + b)$

$$\frac{1}{a} + \frac{1}{b} = \frac{1}{x}$$

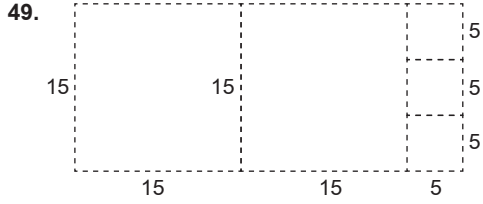
(b) (a)

$$\frac{a+b}{ab} = \frac{1}{x}$$

$$ab = x(a + b)$$

$$x = 6 \text{ olur.}$$

Cevap B



5 tane kare elde edilir.

Cevap D

50.
$$\frac{80^2 \cdot 32}{100^2 \cdot x}$$

$$x = \frac{100^2 \cdot 32}{80^2}$$

$x = 50$ metre

Cevap C

51. Depo x litre olsun.

$$\frac{x}{3} + 15 = \frac{5x}{6}$$

$$15 = \frac{5x}{6} - \frac{x}{3}$$

$$15 = \frac{3x}{6}$$

$$x = 30 \text{ litre}$$

Başlangıçta $\frac{x}{3} = \frac{30}{3} = 10$ litre

Cevap A

52. 50 sayfalık bir kitap içinde 6, 16, 26, 36 ve 46 numaralarını basmayıp bu beş sayfanın yerine sırasıyla 50'den sonraki 51, 52, 53, 54 ve 55 numaralarını basar. Bu durumda son sayfanın numarası 55 olur.

Cevap D

53. Son basılan numara 47 ise normalde daha az sayfa olur. Çünkü numarator 6, 16, 26, 36 ve 46 sayılarını atlamıştır. Bu beş sayfa kitapta yoktur. Bu durumda kitap, $47 - 5 = 42$ sayfalık bir kitaptır.

Cevap A

54. 58'den sonra sırasıyla 59, 70, 71, 72, 73, 74, 75, 77, 78, 79, numaraları basılır. Bu durumda son sayfanın numarası 79'dur.

Cevap D

55. K = 24 TL

L = 28 TL

2'şer tane aldıklarından ikincisi % 50 indirimli alınır.

K → 24 + 12 = 36

L = 28 + 14 = 42

Toplam = 36 + 42 = 78 TL öder.

Cevap B

56. N = 32 TL

3 adedin 1'i indirimli olur.

32 + 32 + 16 = 80 TL öder.

Cevap E

57. M = 44 TL (a tane)

P = 16 TL (b tane)

Öncelik P olmalıdır.

P'nin 2 tanesi = 16 + 8 = 24

M'nin 2 tanesi = 44 + 22 = 66

2 tane M alsın = 66

Geriye 258 - 66 = 192 kalır.

 $\frac{192}{24} = 8$ tane ikili P paketi almış olur.Bu da $2 \cdot 8 = 16$ tane yapar.

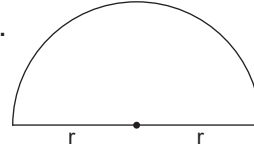
a = 2

b = 16

a + b = 2 + 16 = 18 tane

Cevap D

58.



$$\text{Çevre} = \frac{2\pi r}{2} + 2r$$

$$20 = \pi r + 2r$$

$$20 = 3r + 2r$$

$$5r = 20$$

$$r = 4$$

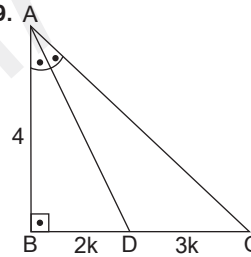
$$\text{Alan} = \frac{\pi r^2}{2}$$

$$= \frac{3 \cdot 4^2}{2}$$

$$= 24 \text{ cm}^2$$

Cevap B

59. A



Açıortay teoreminden,

$$\frac{2k}{3k} = \frac{4}{|AC|}$$

$$|AC| = 6$$

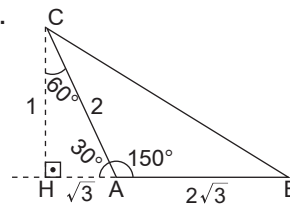
$$6^2 = 4^2 + |BC|^2$$

$$20 = |BC|^2$$

$$|BC| = 2\sqrt{5} \text{ cm}$$

Cevap C

60.



[CH] ⊥ [HB] çizilirse CHA (30°-60°-90°) dik üçgeninde

$$|CH| = 1 \text{ cm}$$

$$|AH| = 2\sqrt{3} \text{ cm olur.}$$

CHB dik üçgeninde Pisagor bağıntısından

$$|CB|^2 = 1^2 + (3\sqrt{3})^2$$

$$|CB|^2 = 1 + 27$$

$$|CB|^2 = 28$$

$$|CB| = 2\sqrt{7} \text{ cm}$$

Cevap D

1. Orta Asya'da kurulan Türk devletlerinde ölen kişinin ardından yapılan törene "yuğ" adı verilmiştir. Sagu ise ölen kişinin ardından yakılan ağıda verilen isimdir.

Cevap D

2. İlk Türk-İslam eseri olma özelliğine Yusuf Has Hacıp tarafından kaleme alınan Kutadgu Bilig sahiptir.

Cevap A

3.

- Darüşşifa: Hastane, şifa evi.
- Kervansaray: Ticaret yolları üzerindeki konaklama yeri.
- İmaret(hane): Yoksullara yemek dağıtılan yer, aşevi.
- Kümbet-Türbe: Anıt mezar.
- Medrese: Okul.

Soru paragrafında yer alan eserler medrese türünün örnekleri arasında yer alır.

Cevap E

4. Osmanlı Devleti'ni en çok uğraştıran beylik Karamanoğulları Beyliği'dir. Bu durum üzerinde kendilerini Anadolu Selçuklu Devleti'nin mirasçısı olarak görmeleri etkili olmuştur. Danişmentogulları Beyliği Malazgirt Savaşı'ndan sonra kurulan ilk beylikler arasında yer alır. Bu beylik, ilk beyliklerin en güçlüsüdür. Ayrıca Osmanlı'yı değil, Anadolu Selçuklu Devleti'ni en çok uğraştıran beylik olma özelliğine sahiptir.

Cevap B

5. Osmanlı tımar sistemine göre dirlik sahibinin görevleri arasında;

- dirliğindeki vergileri toplamak,
- bulunduğu bölgenin güvenliğini sağlamak,
- bölgesinde üretimi artıracak tedbirler almak,
- savaş zamanı cebelü denilen askerleriyle orduya katılmak gibi durumlar yer alır.

Cebeciler Osmanlı ordu teşkilatında kapıkulu piyadeleri içinde yer alan, silah bakım ve onarımından sorumlu olan askerlerdir. Bu askerler üç ayda bir ulufe denilen maaş alırdı. Burada dikkat edilmesi gereken unsur cebeci ve cebelünün karıştırılmaması gerektir. Zira cebeciler kapıkulu ordusu içinde, cebelüler ise eyalet ordusu içinde yer alır.

Cevap C

6. Osmanlı Devleti'nde memleket yönetiminde en büyük yönetim birimi eyaletti. Eyalet yöneticilerine beylerbeyi denilmiştir. Osmanlı'da eyalet sayısında bir artış varsa bunun sonucunda doğal olarak beylerbeyi sayısında da artış yaşanacaktır. Ekber ve erşed sistemi 17. yy.ın ilk çeyreğinde I. Ahmet tarafından getirilen ve veraset sistemi üzerinde yapılan bir düzenlemedir. İltizam usulüne ise Tanzimat Dönemi'nde (1839-1876) Abdülmecit zamanında 1856'da ilan edilen Islahat Fermanı'yla son verilmiştir.

Cevap B

7. Coğrafi Keşiflerle beraber ticaret yolları yön değiştirmişti. Bu durum Osmanlı'nın elinde bulunan İpek ve Baharat yollarının önemini kaybetmesinde etkilidir. Sanayi İnkılabı, Osmanlı Devleti'nde esnaf teşkilatını olumsuz yönde etkilemiş ve esnafın üretimdeki önemi azalmıştır. Zira Sanayi İnkılabı'yla Osmanlı'da işsizlik artmış, paranın değeri düşmüş, yerli malın iç pazarda sürümü azalmış ve üretimde kullanılan ham madde dışarıya çıkmıştır. Dolayısıyla Osmanlı Devleti ham madde ihraç eden, mamul madde ithal eden devlet konumuna gelmiştir. Bu durum ekonomiyi olumsuz etkilemiştir. Balta Limanı Ticaret Antlaşması 1838'de İngiltere'yle imzalanmıştır. Bu antlaşmayla Osmanlı pazarlarına giren yabancı mallar artmış, ticaret gelirlerinin büyük bir bölümü İngilizlerin eline geçmiştir. Bu da Osmanlı ekonomisine olumsuz yansımıştır.

Cevap A

8. Osmanlı Devleti'nde Divanühümayun Orhan Bey zamanında, Kuruluş Dönemi'nde kurulan Enderun Mektebinin tam olarak faaliyete geçmesi ise II. Mehmet Dönemi'ndedir. Divanühümayun'un kurulması idari alanda, Enderun Mektebinin kurulması ise idari-eğitim alanında yapılan teşkilatlanma çalışmaları arasında yer alır. Askerî eğitim sisteminde düzenlemeye gidilmesi, var olan bir teşkilat üzerinde düzenleme yapma amacına yönelik olduğu için bu durum modernleşmeye yöneliktir.

Cevap C

9. II. Mahmut Dönemi 1808-1839 yılları arasında kapsar. Bu dönemde ferid malına el konulması anlamına gelen "müsadere sistemi" kaldırılmış, "Asakir-i Mansure-i Muhammediye" adında yeni bir ordu kurulmuş, Divanühümayun'dan "Meclis-i Vükela (Bakanlık) Sistemi"ne geçilmiş ve ilk posta teşkilatı oluşturulmuştur. Ancak E seçeneğinde yer alan "Meclis-i Âyan üyelerinin ilk kez seçilmesi" ifadesi II. Abdülhamit Dönemi'yle ilgilidir. Zira 1876'da yürürlüğe giren Kanunuesasi'ye göre Meclis-i Âyan üyelerini padişah seçerdi. Kanunuesasi II. Abdülhamit Dönemi'nde yürürlüğe girdiği için bu durumu âyanların tanınmasıyla yani Sened-i İttifak'la karıştırmamak gerekir.

Cevap E

10. Soru paragrafında yer alan özellikler Mecelle-i Ahkam-i Adliye yani "Mecelle" ile ilgilidir. Ceride-i Mehakim, 1873'ten itibaren mahkemelere ait kanunları ve yargı kararlarını yayımlamak amacıyla çıkarılan gazetenin adıdır. Sonraki süreçte "Ceride-i Mahâkim-i Adliye" ve "Ceride-i Adliye" adlarıyla 1928'e kadar varlığını sürdürmüştür. Takvim-i Vekayi, II. Mahmut Dönemi'nde 1831'den itibaren çıkarılmaya başlanan ilk resmî gazetenin adıdır. Tarih-i Cevdet, Ahmet Cevdet Paşa'nın tarihle ilgili eserinin adıdır. Bu eserin üç cildini 1854'te Sultan Abdülmecit'e sunmuştur. Kanunuesasi ise Türk tarihinin ilk anayasasıdır. 1924'te yürürlükten kaldırılmıştır.

Cevap D

11. Türk tarihinin ilk anayasası Kanunuesasi'dir. Kanunuesasi 23 Aralık 1876'da yürürlüğe girmiştir. Kanunuesasi, Cemiyet-i Mahsusa tarafından Belçika ve Prusya anayasalarından yararlanılarak hazırlanmıştır. D seçeneğinde yer alan "Hükûmetin güvensizlik oyuyla Mebusan Meclisi tarafından düşürülebileceği" ilkesi 1909'da Kanunuesasi'de yapılan değişiklikler arasında yer alır. Yani I. Meşrutiyet Dönemi anayasasının kapsamında değildir. Zira I. Meşrutiyet Dönemi anayasasına göre hükûmetin kurulması ve görevden alınması yetkisi padişaha aittir.

Cevap D

12.

I. 31 Mart Olayı → 13 Nisan 1909

II. Menemen Olayı → 23 Aralık 1930

III. Şeyh Sait İsyanı → 13 Şubat 1925

Buna göre doğru sıralama I, III, II şeklinde olacaktır.

Cevap C

13. Mustafa Kemal Paşa I. Dünya Savaşı'nda Çanakkale Cephesi'nde Anafartalar, Arıburnu, Conkbayırı gibi yerlerde, Kafkas Cephesi'nde Muş ve Bitlis'te, Suriye-Filistin Cephesi'nde de Halep'te başarılı mücadeleler vermiştir. Derne ve Tobruk ise Mustafa Kemal Paşa'nın Trablusgarp Savaşı'nda mücadele ettiği yerler arasındadır.

Cevap B

14. Erzurum Kongresi 23 Temmuz-7 Ağustos 1919 tarihleri arasında, Sivas Kongresi ise 4-11 Eylül 1919 tarihleri arasında düzenlenmiştir. İki kongrede de boğazlarla ilgili herhangi bir ifade yer almamıştır. Ancak B, C, D ve E seçeneklerinde yer alan ifadelerle ilgili kararlar iki kongrede de yer almıştır. Şöyle ki "Azınlıklara sosyal yapımızı ve siyasi dengemizi bozacak ayrıcalıklar verilemez." maddesi azınlıklarla, "Mebusan Meclisi toplanmalı, İstanbul Hükûmeti'nin faaliyetleri denetlenmelidir." maddesi Mebusan Meclisiyle, "Manda ve himaye kabul edilemez." maddesi manda ve himaye ile, "Millî sınırlar içinde vatan bir bütündür, asla parçalanamaz." maddesi de millî sınırlarla ilgili kararlardır

Cevap A

15. Temsilciler Kurulu ilk kez Erzurum Kongresi'nde seçilmiştir. Batı Cephesi Balıkesir-Alaşehir Kongrelerinden sonra oluşturulmuştur. Mustafa Kemal Paşa IX. Ordu Müfettişi olarak 16 Mayıs 1919'da İstanbul'dan ayrılmıştır. İstanbul Hükûmeti ile Anadolu Hareketi arasında 20-22 Ekim 1919'da Amasya Görüşmeleri yapılmıştır. Dolayısıyla bu gelişmelerin tamamı Misakımillî kabul edilmeden önce yaşanan gelişmeler arasındadır. Misakımillî ise 28 Ocak 1920'de Mebusan Meclisinde kabul edilmiştir. Ancak Misakımillî'de Elviye-i Selase'de (Kars, Ardahan ve Batum), Batı Trakya'da ve Mondros imzalandığında işgal altında bulunan Arap topraklarında halkoyuna başvurulması gerektiği belirtilmiştir.

Cevap E

16. Soru öncüllerinde yer alan eşleştirmelerin tamamı doğrudur.

Cevap E

17. I. TBMM Dönemi 23 Nisan 1920 ile 11 Ağustos 1923 tarihleri arasında kapsar. C seçeneğinde yer alan "Yeni Türk Devleti'nin devlet başkanı sorununu çözmesi" ifadesi cumhuriyetin ilanının sonuçları arasındadır. Cumhuriyetin ilanı ise II. TBMM Dönemi gelişmeleri arasında yer almıştır.

- Gediz Taarruzu → 24 Ekim 1920
- "Gazilik" unvanı ve "Mareşallik" rütbesi → 19 Eylül 1921
- İstiklâl Marşı'nın kabulü → 12 Mart 1921
- Sovyet Rusya'nın kapitülasyonların kaldırıldığını kabul etmesi → 16 Mart 1921 (Moskova Antlaşması)

Cevap C

18. Wilson İlkelerinin "Boğazlar bütün devletlerin ticaret gemilerine açık olacak." maddesi, Mondros Ateşkesi'nin, "Boğazlar açılacak, boğazlardaki kaleler Anlaşma Devletleri tarafından işgal edilecek." maddesi, Sevr Antlaşması'nın "Boğazlar bütçesi ve bayrağı ayrı olan uluslararası bir komisyon tarafından yönetilecek." maddesi, Moskova Antlaşması'nın, "Boğazlar konusu Karadeniz'e kıyısı olan devletlerin temsilcilerinin katıldığı bir konferansta ele alınacak." maddesi boğazlarla ilgilidir. Ancak Amasya Tamimi'nde (Genelgesi) boğazlarla ilgili bir ifade yer almamıştır.

Cevap D

19. Lozan Antlaşması 24 Temmuz 1923'te imzalanmış, 23 Ağustos 1923'te ise onaylanmıştır. Kafkas sınırı 13 Ekim 1921'de imzalanan Kars Antlaşması'yla kesinlik kazandığı için bu konuyla ilgili Lozan'da yeni bir karar yer almamıştır. Sevr Antlaşması'nda (10 Ağustos 1920) kapitülasyonların tekrar uygulamaya konulmasına dair bir ifade yer alırken Lozan Antlaşması'yla kapitülasyonlar tamamen kaldırılmıştır. Sevr Antlaşması'nda "Boğazlar, bütçesi ve bayrağı ayrı olan uluslararası bir komisyon tarafından yönetilecektir." maddesi yer alırken Lozan'da boğazlarla ilgili, "Başında bir Türk'ün bulunduğu uluslararası bir komisyon tarafından yönetilecektir." maddesi yer almıştır.

Cevap D

20. Saltanat, yönetimin babadan oğla geçmesidir. Saltanat kişi egemenliğine dayanır. Dolayısıyla bu iki durum ulusal egemenlik ilkesine terstir. İlk Maarif Kongresi 15 Temmuz 1921'de düzenlenmiştir. Bu kongre eğitim, kültür ve bilimle ilgilidir. Lozan, 23 Ağustos 1923'te onaylanmıştır. Dolayısıyla saltanat kaldırıldıktan sonradır. Burada karıştırılmaması gereken durum şudur: Lozan Konferansı'na TBMM'nin yanında İstanbul Hükümeti'nin de davet edilmesi saltanatın kaldırılmasını hızlandırmıştır. Ancak Lozan'ın onaylanması saltanatın kaldırılması üzerinde etkilidir denilemez. Çünkü sonraki gelişmeler önceki gelişmeleri etkileyemez.

Cevap A

21. 17 Şubat 1925'te aşar vergisi kaldırılmıştır. Ziraat Bankası 1888'de, Tarım Kredi Kooperatifleri 1935'te kurulmuştur. Çiftçiyi Topraklandırma Kanunu 1945'te, Teşvik-i Sanayi Kanunu ise 1927'de çıkarılmıştır.

Cevap B

22. Cumhuriyet Dönemi'nde toplumsal alanı düzenlemek amacıyla;

- Şapka Kanunu çıkarılmıştır.
- Tekke, zaviye ve türbeler kapatılmıştır.
- Miladi takvim kabul edilmiştir.
- Medeni Kanun çıkarılmıştır.
- Uluslararası rakamlar kabul edilmiştir.
- Uluslararası uzunluk ve ağırlık birimleri kabul edilmiştir.
- Soyadı Kanunu çıkarılmıştır.
- Unvan ve lakaplar yasaklanmıştır.
- Hafta tatili cuma gününden pazar gününe alınmıştır.

Medeni Kanun'la mirasta ve şahitlikte kadın-erkek eşitliği sağlanmıştır. Bu boyutuyla Medeni Kanun toplumsal alanla ilişkilendirilebilir. Kabaotaj Kanunu ise ekonomik alanla ilgilidir. 1 Temmuz 1926'da çıkarılmıştır.

Cevap C

23. Cumhuriyet Dönemi'nde eğitimde birliği sağlamak amacıyla 3 Mart 1924'te Tevhid-i Tedrisat Kanunu çıkarılmıştır. Bu kanunla bütün eğitim kurumları Millî Eğitim Bakanlığına bağlanmıştır. Ayrıca 11 Mart 1924'te medreselerin kapatılması ise öğretimde birliğin sağlanması amacıyla yöneliktir.

Cevap B

24. Atatürk ilkeleri 5 Şubat 1937'de 1924 Anayasası'na girmiştir. 17 Şubat 1926'da Türk Medeni Kanunu kabul edilmiştir. 10 Nisan 1928'de "Devletin dini İslam'dır." ifadesi ve "Şeri hükümlerin yerine getirilmesi meclise aittir." ifadesi 1924 Anayasası'ndan çıkarılmış ve milletvekillerinin ve cumhurbaşkanının yemin tarzı değiştirilmiştir. 5 Aralık 1934'te kadınlara milletvekili seçme ve seçilme hakkı tanınmıştır. 3 Mart 1924'te Tevhid-i Tedrisat Kanunu çıkarılmış, Şeriye ve Evkaf Vekaleti, Erkan-ı Harbiye Vekaleti ile halifelik kaldırılmış ve Osmanlı hanedanının yurt dışına çıkarılması kararı alınmıştır.

Cevap E

25. İngiltere ve Fransa I. Dünya Savaşı sonrasındaki süreçte Orta Doğu'yu kendi aralarında paylaşmıştır. Buna göre Fransa; Suriye ve Lübnan'ı, İngiltere; Irak, Filistin ve Ürdün'ü aldı. Ayrıca Sevr Antlaşması ile Anadolu'da nüfus bölgeleri kurarak buraları işgal etmeye başladı. Bunlar dışında İngiltere daha önceden işgal etmiş olduğu Mısır ve Kıbrıs'ı resmen kendisine bağladı.

Cevap A

26. Amerika Birleşik Devletleri 6 Ağustos 1945'te Hiroşima'ya, 9 Ağustos 1945'te de Nagazaki'ye atom bombası atmıştır.

Cevap D

27. SSCB'nin dağılması sonucu Almaatı Deklarasyonu ile kurulan siyasi ve ekonomik gelişme birliğin adı Bağımsız Devletler Topluluğudur (BDT).

TİKA, başta Türkçe konuşulan ülkeler olmak üzere gelişme yolundaki ülkelerin kalkınmalarına yardımcı olmak, bu ülkelerle iş birliğini geliştirmek amacıyla kurulan teşkilatın adıdır.

AET, Avrupa Ekonomik Topluluğudur.

OAPEC, Petrol İhraç Eden Arap Ülkeleri Topluluğudur.

CENTO, Irak'ın Bağdat Pakti'nden çekilmesi üzerine ABD'nin de dâhil olmasıyla kurulan ve Merkezî Antlaşma Teşkilatı adıyla anılan organizasyonun adıdır.

Cevap B

28. Türkiye'de ekim ayının son haftasından başlamak üzere mart ayının son haftasına kadar geçen sürede kış saati yani geri saat uygulamasında İzmit'ten geçen 30° Doğu meridyeninin yerel saati ortak saat olarak uygulanmaktadır. İleri ve geri saat uygulamasının nedeni ülkede güneş enerjisinden daha fazla yararlanarak enerji tasarrufunu sağlamaktır. Buna göre haritada numaralanmış merkezlerde kış saati uygulaması başladığında yerel saat ile ulusal saat arasındaki farkın daha fazla olduğu merkez verilenler içerisinde, İzmit'e en uzak olan IV numaralı (Hakkari) yerdir.

Cevap D

29. Erozyon, toprak tabakasının dış kuvvetlerle özellikle de akarsu ve rüzgâr tarafından aşındırılarak süpürülmesi olayıdır. Eğimli arazi, bitki örtüsünün yetersizliği, sağanak yağışlar gibi nedenlerden dolayı erozyon olayı yaşanmaktadır. Bitki örtüsünün yetersiz olduğu bilhassa iç bölgelerde İç Anadolu Bölgesi'nde Konya'da rüzgâr erozyonu etkiliyken eğimli arazinin olduğu yörelerde ise akarsu erozyonu etkilidir. Verilen yörelerin bu özellikleri düşünüldüğünde erozyon olayının en fazla Konya çevresinde yaşanması beklenir. Heyelan ise kaya zemine sahip ya da yapay dolgudan oluşan bir yamacın eğim, su, yer çekimi ve beşeri faktörler nedeniyle aşağı ve dışa doğru hareketiyle oluşur. Heyelan olayı, toprağın kütleler hâlinde bulunduğu yerden eğimli arazi boyunca aşağı doğru kaymasıyla oluşur. Nemle doymuş hâle gelen toprak, heyelanı meydana getirir. Verilen yörelerin bu özelliklerine bağlı olarak heyelanın en fazla Doğu Karadeniz'de yaşanması beklenir.

Cevap A

30. Fiziki haritalarda yükselti basamakları ile renk ilgisi düşünüldüğünde verilen dağlardan Mardin Dağları; düzlüklerin geniş yer kapladığı Güneydoğu Anadolu Bölgesi'nde yer almaktadır. Yükseltisi 1500 m'nin altında olan bu dağın yükseltisinin az olması nedeniyle zirvesi beyaz ve mor renkte gösterilmez.

Cevap D

31. Antalya'dan hareket ederek Konya iline ulaşan gözlemci karasal iklimin görüldüğü bir alana ulaştığı için

- günlük sıcaklık farkının arttığına,
- nem miktarının azaldığına

tanık olur.

Konya ilinin kırsal alanında konut yapı malzemesi kerpiç iken bitki örtüsü (bozkır) gür değil, seyrek.

Cevap C

32. 2015 Adrese Dayalı Nüfus Kayıt Sistemi sonuçlarına göre Türkiye'de nüfus miktarı en az olan il 78.550 kişi ile il Bayburt'tur

Cevap A

33. Mezraalar, Doğu ve Güneydoğu Anadolu Bölgelerinde genel olarak hayvan yetiştirme ve ekip biçme faaliyetlerinin yapıldığı, geçici veya devamlı yerleşmelerdir. Ekip biçme faaliyetlerinde daha çok arpa ve çavdar yer alır. Kuru çayır hazırlama faaliyeti de önem taşır. Kışlık kuru ot üretimi ve hayvan otlatma ön planda yer alır. Örneğin; Erzurum - Kars Yöresi'nde ekonomik faaliyet birinci planda kuru ot üretimi ve hayvan otlatma faaliyetlerine dayanır. Türkiye'de mezraa yerleşmelerinin ekonomik fonksiyonu birinci derecede hayvancılığa ve ikinci derecede ekip biçme faaliyetine dayanır.

Cevap A

34. Mevsimlik göç olaylarından bazıları, tarım işçilerinin yılın belirli dönemlerinde yer değiştirmeleri şeklinde gerçekleşir. Pamuk, tütün, mısır gibi kültür bitkileri tarlalarının çapalanmasında veya zeytin, üzüm, fındık, turunçgiller gibi meyvelerin toplanmasında çalışmak için göç gerçekleşir. Pamuk çapalama ve toplama mevsiminde tarlalarda çalışmak üzere Adana'ya göç gerçekleşir. Buna göre soruda verilen merkezlerden Adana'da bu amaçla yapılan mevsimlik işçi göçü faaliyetleri fazladır.

Cevap D

35. Türkiye'nin genç bir ülke olmasına bağlı olarak

- Birçok yerde kara yolu ve demir yolu birim maliyetinin yüksek olması (A),
- Sık sık can ve mal kaybına neden olan tektonik depremlerin yaşanması (B),
- Akarsuların akış hızlarının yatağının birçok yerinde fazla olması (C),
- Ortalama yükseltisinin dünya ortalamasının üstünde olması (D)

gibi sonuçlar ortaya çıkmıştır. Ancak yüz ölçümünün büyük olması siyasi sınırlarından kaynaklanan bir durumdur.

Cevap E

36. Türkiye'de yaygın iklim koşulları ve nüfusun tüketim kültürüne bağlı olarak en geniş ekim alanına tahıllar sahiptir. Tahıllar içerisinde de en geniş ekim alanına buğday sahiptir.

Cevap C

37. Tarım ürünlerinin olgunlaşması sıcaklığa bağlıdır. Ülkemizde Akdeniz Bölgesi'nde sıcaklık ortalamalarının yüksek olması ve yaz mevsiminin erken başlaması tarım ürünlerinin erken olgunlaşmasına sebep olur (Çukurova Yöresi).

Cevap E

38. Türkiye'de üç farklı ana iklim tipi görülür.

- Akdeniz'de, yazlar kurak ve sıcak, kışlar ılık ve yağışlıdır.
- Karadeniz'de, her mevsim yağışlı, yazları serin, kışları ılıktır.
- Karasal iklimde yazlar kurak ve sıcak, kışlar soğuk ve kar yağışlıdır.

Cevap D

39. Türkiye'nin önemli krom yataklarının bulunduğu yöreler arasında;

- Elazığ (Guleman),
- Denizli (Acıpayam) ve Muğla (Dalaman) yatakları,
- Bursa (Orhaneli),
- Eskişehir (Mihalıççık),
- Erzincan (Kopdağ),
- Adana (Aladağ) vardır.

Türkiye 37 milyon ton olan krom rezervi ile Güney Afrika Cumhuriyeti, Zimbabve ve Rusya'nın ardından dördüncü sırada yer alır.

Türkiye'de krom cevheri üretiminin yarısı Antalya ve Elazığ'daki ferrokrom tesislerinde işlenir, geriye kalan kısmı ise ihraç edilir.

Cevap B

40. Türkiye'de yenilenebilir enerji kaynakları arasında;

Hidrolik Enerji: Hidrolik enerji için su gücünden faydalanılır. Türkiye akarsuları ve topografik özelliklerinin uygunluğu nedeniyle yüksek bir hidrolik enerji potansiyeline sahiptir.

Ülke içinde Doğu Anadolu ve Karadeniz Bölgeleri hidroelektrik santrallerin kurulması için en uygun yerlerdir.

Rüzgâr Enerjisi: Türkiye'de Marmara, Ege, Akdeniz kıyıları Güneydoğu Anadolu Bölgesi ile İç Anadolu Bölgesi'nde Tuz Gölü'nün güneyi ülkemizdeki rüzgâr gücü potansiyelinin yüksek olduğu yerlerdir.

Güneş Enerjisi: Güneş enerjisi potansiyeli en yüksek bölgemiz Güneydoğu Anadolu Bölgesi'dir. Sırasıyla Akdeniz, Ege, Doğu Anadolu, İç Anadolu, Marmara ve Karadeniz Bölgeleri izler.

Jeotermal Enerji: Yer kabuğunun zayıf noktalarından çıkan sıcak su ve su buharından jeotermal enerji elde edilir. Denizli - Sarayköy, Aydın - Germencik'te üretim yapılmaktadır.

Biyomas (Biyokütle) Enerji: Biyomas enerji, organik maddelerin doğrudan yakılması veya havayla temasının kesilerek biyogaz elde etme esasına dayanır.

Ankara, Adana, İzmit, Mersin ve Tarsus'ta çöp santrallerinden enerji üretimi yapılmaktadır.

Cevap A

41. Derinliğin fazla olmadığı kıyılarda koyların ağız kısmının dalgaların biriktirdiği kumlar sonucunda kapanması ile meydana gelen göl oluşumuna kıyı set gölleri (lagün gölü) denir. Ülkemizde en belirgin oluşuma sahip olanları Büyük Çekmece, Küçük Çekmece ve Terkos (Durusu) gibi göllerdir. (Marmara Bölgesi'nde yer alırlar.)

Cevap B

42. Ülkemizde sanayinin dağılışını etkileyen faktörler arasında yoğun nüfuslu bölgeler, pazarlama ve tüketim, kara ve demir yollarıyla entegre durumundaki liman kentleri, ulaşım ağlarının keşiştiği kavşak noktaları, çeşitli ham maddelerin ve tarımsal ham maddelerin yoğun olarak üretildiği yöreler, teşvikler, özel sektör tercihleri sanayinin dağılışında etkili olmaktadır. Buna göre haritada I numara ile gösterilen İzmir'de sanayi tesislerinin yoğunluğu fazladır.

Cevap B

43. Haritada II numara ile gösterilen alanda, yer alan Tekirdağ limanı Avrupa'nın en büyük konteyner limanlarından biridir.

Cevap B

44. Mağara turizmi ülkemizin ilgi çeken turistik doğal güzellikleri arasındadır.

Kireç taşlarının yer altı suları tarafından çözünmesi sonucunda oluşan karstik şekillerin en yaygın olduğu bölgelerimizin başında Akdeniz Bölgesi gelmektedir. İnsuyu (Burdur), Damlataş, Dim (Alanya), Karain (Antalya), Kadınini ve Öküzini (Isparta) yurdumuzdaki en tanınmış karstik mağaralardır.

Cevap A

45. Doğu Anadolu Bölgesi'nin oluşturulmasında etken olan başlıca özellikler arasında;

- Dağlık bir topoğrafyaya sahip olması,
- Çöküntü ovaları ve geniş platoların varlığı,
- Kışları soğuk ve uzun, yazları serin ve yağışlı bir karasal iklim,
- Çayır, iğne yapraklı orman ve bozkırlardan oluşmuş bir bitki örtüsü,
- Volkan dağları ve volkanik topoğrafya,
- Akarsu ve göl zenginliği ve kapalı havzalar,
- Seyrek bir nüfus,
- Tarım ve hayvancılığa dayalı bir ekonomi,
- Zengin bir maden coğrafyası olması gösterilebilir.

Cevap B

46. Mutlak haklar sahibine en geniş yetkileri veren haklardır. Mutlak haklar sahibi tarafından herkese karşı ileri sürülebilir ve herkes mutlak haklara saygı göstermek zorundadır. Hak sahibi bu haklarından dilediği gibi yararlanır. Mutlak haklar hem mallar üzerinde hem de kişiler üzerinde olabilir. Mallar üzerindeki mutlak haklara mülkiyet hakkı, kullanma hakkı, telif hakkını örnek verebiliriz. Kişiler üzerindeki haklara ise velayet hakkı, vesayet hakkı gibi örnekler verebiliriz.

Cevap C

47. Yaptırım (müeyyide); Bir kurala uygun hareket etmeme durumunda karşılaşılabilecek olan tepkidir. Yaptırım kendi içerisinde en temelde ikiye ayrılmaktadır. Bunlar manevi yaptırımlar ve maddi yaptırımlardır.

Manevi yaptırım; ahlak, din ve görgü kurallarına uyulmadığı takdirde ayıplama, dışlama, toplumdaki uzaklaştırma gibi yöntemleri kullanarak tepki vermektir.

Maddi yaptırım; bir hukuk kuralının ihlaline tepki olarak gösterilen ve hukuk düzeni tarafından öngörülen zorlamadır. Çeşitli türleri bulunmaktadır.

- Ceza
- Cebri icra
- Tazminat
- İptal
- Hükümsüzlük

Cevap E

48. Fiil ehliyeti kendi içinde dört alt türe ayrılmaktadır. Bunlar tam ehliyetlilik, tam ehliyetsizlik, sınırlı ehliyetlilik ve sınırlı ehliyetsizliktir.

Tam ehliyetlilik; ayırt etme gücüne sahip, ergin olan ve kısıtlı olmayan kişinin durumudur.

Tam ehliyetsizlik; ayırt etme gücüne sahip olmayan kişinin durumudur.

Sınırlı ehliyetlilik; kendisine yasal danışman atanmış veya evli kişilerin durumudur.

Sınırlı ehliyetsizlik; ayırt etme gücüne sahip küçüğün veya ayırt etme gücüne sahip kısıtlının durumudur.

Cevap B

49. Genel seçimler 550 milletvekilinin 81 ilde yapılan seçimlerle yenilenmesidir. 3 durumda gerçekleşir.

- Yasama döneminin sonu (4 yıl)
- Erken seçim (TBMM'nin istediği herhangi bir zaman)
- 45 gün içinde hükümet kurulamazsa cumhurbaşkanı TBMM başkanına danışarak seçimleri yenileyebilir.

Cumhurbaşkanının böyle durumlarda seçimleri yenilemesi zorunlu değil, kendi isteğine bağlıdır.

Cevap A

50. 1982 Anayasası'nın 87 ve 92. maddeleri arasında Türkiye Büyük Millet Meclisinin görevleri düzenlenmiştir. Anayasa Mahkemesine üye seçmek, Bakanlar Kurulunu denetlemek, kanun yapmak, savaş ilan etmek, genel ve özel af ilan etmek Türkiye Büyük Millet Meclisinin anayasada belirtilen görevleri arasında yer almaktadır. Ancak kanunları yayınlamak TBMM'nin görevleri arasında değildir. Cumhurbaşkanının görev ve yetkileri arasında yer alır. Anayasanın 104. Maddesinde belirtildiği üzere bu görev cumhurbaşkanının yasama ile ilgili görevleri arasında yer alır.

Cevap D

51. Tüzükler kanunların uygulanış biçimini ve emrettiği işleri belirtmek üzere Bakanlar Kurulu tarafından çıkarılan yazılı hukuk normlarıdır. Tüzük tasarıları çıkarılmadan önce Danıştay'ın görüşüne sunulur. Cumhurbaşkanı tarafından onaylanır, Resmî Gazete'de yayımlanır ve tarih belirtilmemişse 45 gün sonra yürürlüğe girer. Yargısal denetimlerini Danıştay gerçekleştirir.

Cevap A

52. Başbakan, cumhurbaşkanınca TBMM üyeleri arasından atanır.

Görevleri arasında Bakanlar Kuruluna başkanlık etmek, bakanlar arasındaki eş güdümü (koordinasyon) sağlamak, yönetmelik çıkarmak, cumhurbaşkanının katılmadığı MGK toplantılarına başkanlık etmek vardır.

Bakanlar tek tek başbakana karşı sorumludur ancak başbakan bakanların hiyerarşik amiri değildir. Genelkurmay başkanını cumhurbaşkanı atar.

Cevap C

53. Yargısal denetim dışındaki işlemlerden bazıları şunlardır:

- Cumhurbaşkanının tek başına yaptığı işlemler
- Milletlerarası antlaşmalar
- Tahkim kurulu kararları
- Kamu Görevlileri Hakem Kurulu kararları
- Yüksek Seçim Kurulu kararları
- İnkılap (devrim) Kanunları

Bütçe ve af kanunlarının ise iptali için yargı yolu açıktır.

Cevap B

54. Merkezî idare, mahallî idareler üzerinde, mahallî hizmetlerin idarenin bütünlüğü ilkesine uygun şekilde yürütülmesi, kamu görevlerinde birliğin sağlanması, toplum yararının korunması ve mahallî ihtiyaçların gereği gibi karşılanması amacıyla, kanunda belirtilen esas ve usuller dairesinde **idari vesayet** yetkisine sahiptir. İdari vesayet yetkisinde vesayet makamı yerinden yönetim temsilcilerine emir veremez, sadece onların işlemlerinin hukuka uygunluğunu denetler.

Cevap E

55. Gıda ve Tarım Örgütü, açlığı yok etmek ve beslenme şartlarını iyileştirmek amacıyla 1943'te kurulan ve 1946'da Birleşmiş Milletlerin uzmanlık kuruluşu hâline gelen bir örgüttür. Açlığa karşı mücadelede çok yönlü etkinlikleri vardır. Hükümet ve teknik kuruluşların tarımı, ormancılığı ve balıkçılığı geliştirme projelerine aracı ve yardımcı olur. Bu tip konularda ülkeler düzeyinde teknik yardımlar sağlar. Örgütün kısa adı İngilizce isminin baş harflerinden oluşan FAO'dur (Food and Agriculture Organisation).

Cevap E

56. İsviçre'nin Montrö şehrinde yapılan 2016 Avrupa Tekvando Şampiyona'sında Türk Sporcumuz Servet Tazegül Şampiyon olmuştur.

Cevap C

57. TÜBİTAK kaynaklarıyla gerçekleştirilen ilk millî yer gözlem uydusunun adı Göktürk 2'dir. Göktürk 2 uydusu 18 Aralık 2012 tarihinde saat 18:13'te fırlatılmış ve ilk sinyal saat 19:39'da Norveç Tromso Yer İstasyonu'nda alınmıştır.

Cevap D

58. Ağustos 2015 itibarıyla Hulusi Akar, Genelkurmay Başkanlığı görevini Necdet Özel'den devralmıştır.

Cevap A

59. İngilizce olarak "Emerging 7" yani " Gelişmekte olan 7" anlamına gelmektedir. Bu ülkeler son 20 yılda çok büyük gelişmeler göstererek dünyanın en güçlü ekonomileri arasına girmiştir.

E-7 ülkeleri; Çin, Hindistan, Brezilya, Rusya, Endonezya, Meksika ve Türkiye'den oluşmaktadır.

Cevap B

60. Brezilya Senatosu, bütçede usulsüzlük yapmakla suçlanan Devlet Başkanı Dilma Rousseff'in görevden alınmasına karar vermiştir. Rousseff'in görevden alınmasıyla, Brezilya'da 13 yıldır süren İşçi Partisi iktidarı da son bulmuştur.

Cevap D

GENEL YETENEK - GENEL KÜLTÜR

GENEL YETENEK

1.	A	21.	C	41.	C
2.	D	22.	B	42.	B
3.	C	23.	E	43.	E
4.	B	24.	C	44.	E
5.	A	25.	C	45.	B
6.	D	26.	A	46.	A
7.	D	27.	A	47.	C
8.	D	28.	D	48.	B
9.	B	29.	E	49.	D
10.	B	30.	B	50.	C
11.	D	31.	E	51.	A
12.	A	32.	C	52.	D
13.	A	33.	D	53.	A
14.	D	34.	D	54.	D
15.	B	35.	C	55.	B
16.	D	36.	B	56.	E
17.	E	37.	A	57.	D
18.	D	38.	E	58.	B
19.	E	39.	A	59.	C
20.	A	40.	B	60.	D

GENEL KÜLTÜR

1.	D	21.	B	41.	B
2.	A	22.	C	42.	B
3.	E	23.	B	43.	B
4.	B	24.	E	44.	A
5.	C	25.	A	45.	B
6.	B	26.	D	46.	C
7.	A	27.	B	47.	E
8.	C	28.	D	48.	B
9.	E	29.	A	49.	A
10.	D	30.	D	50.	D
11.	D	31.	C	51.	A
12.	C	32.	A	52.	C
13.	B	33.	A	53.	B
14.	A	34.	D	54.	E
15.	E	35.	E	55.	E
16.	E	36.	C	56.	C
17.	C	37.	E	57.	D
18.	D	38.	D	58.	A
19.	D	39.	B	59.	B
20.	A	40.	A	60.	D